

Series **GEFH1/3**



SET ~ 3



रोल नं.

Roll No.



प्रश्न-पत्र कोड
Q.P. Code

59/3/3

परीक्षार्थी प्रश्न-पत्र कोड को उत्तर-पुस्तिका के मुख-पृष्ठ पर अवश्य लिखें ।

Candidates must write the Q.P. Code on the title page of the answer-book. *



राजनीति विज्ञान POLITICAL SCIENCE

निर्धारित समय : 3 घण्टे

अधिकतम अंक : 80

Time allowed : 3 hours

Maximum Marks : 80

नोट / NOTE :

- (i) कृपया जाँच कर लें कि इस प्रश्न-पत्र में मुद्रित पृष्ठ **23** हैं ।
Please check that this question paper contains **23** printed pages.
- (ii) प्रश्न-पत्र में दाहिने हाथ की ओर दिए गए प्रश्न-पत्र कोड को परीक्षार्थी उत्तर-पुस्तिका के मुख-पृष्ठ पर लिखें ।
Q.P. Code given on the right hand side of the question paper should be written on the title page of the answer-book by the candidate.
- (iii) कृपया जाँच कर लें कि इस प्रश्न-पत्र में **30** प्रश्न हैं ।
Please check that this question paper contains **30** questions.
- (iv) कृपया प्रश्न का उत्तर लिखना शुरू करने से पहले, उत्तर-पुस्तिका में प्रश्न का क्रमांक अवश्य लिखें ।
Please write down the serial number of the question in the answer-book before attempting it.
- (v) इस प्रश्न-पत्र को पढ़ने के लिए 15 मिनट का समय दिया गया है । प्रश्न-पत्र का वितरण पूर्वाह्न में 10.15 बजे किया जाएगा । 10.15 बजे से 10.30 बजे तक छात्र केवल प्रश्न-पत्र को पढ़ेंगे और इस अवधि के दौरान वे उत्तर-पुस्तिका पर कोई उत्तर नहीं लिखेंगे ।
15 minute time has been allotted to read this question paper. The question paper will be distributed at 10.15 a.m. From 10.15 a.m. to 10.30 a.m., the students will read the question paper only and will not write any answer on the answer-book during this period.



सामान्य निर्देश :

निम्नलिखित निर्देशों को बहुत सावधानी से पढ़िए और उनका सख्ती से पालन कीजिए :

- (i) इस प्रश्न-पत्र में 30 प्रश्न हैं। सभी प्रश्न अनिवार्य हैं।
- (ii) यह प्रश्न-पत्र पाँच खण्डों में विभाजित है – खण्ड क, ख, ग, घ एवं ङ।
- (iii) खण्ड क में प्रश्न संख्या 1 से 12 तक बहुविकल्पीय (MCQ) प्रकार के एक-एक अंक के प्रश्न हैं।
- (iv) खण्ड ख में प्रश्न संख्या 13 से 18 तक लघु-उत्तरीय (SA) प्रकार के दो-दो अंकों के प्रश्न हैं। प्रत्येक प्रश्न का उत्तर 50 शब्दों से अधिक नहीं होना चाहिए।
- (v) खण्ड ग में प्रश्न संख्या 19 से 23 तक दीर्घ-उत्तरीय (LA) प्रकार के चार-चार अंकों के प्रश्न हैं। प्रत्येक प्रश्न का उत्तर 100 शब्दों से अधिक नहीं होना चाहिए।
- (vi) खण्ड घ में प्रश्न संख्या 24 से 26 तक अवतरण, कार्टून तथा मानचित्र-आधारित प्रश्न हैं।
- (vii) खण्ड ङ में प्रश्न संख्या 27 से 30 तक दीर्घ-उत्तरीय (LA) प्रकार के छह-छह अंकों के प्रश्न हैं। प्रत्येक प्रश्न का उत्तर 170 शब्दों से अधिक नहीं होना चाहिए।
- (viii) प्रश्न-पत्र में कोई समग्र विकल्प नहीं है। यद्यपि कुछ प्रश्नों में आंतरिक विकल्प का प्रावधान दिया गया है। इन प्रश्नों में से केवल एक ही प्रश्न का उत्तर लिखा जाए।
- (ix) इसके अतिरिक्त, प्रत्येक खण्ड एवं प्रश्नों के साथ, जहाँ आवश्यक हैं, निर्देश दिए गए हैं।

खण्ड क

प्रश्न संख्या 1 से 12 तक बहुविकल्पीय (MCQ) प्रकार के एक-एक अंक के प्रश्न हैं।

12×1=12

1. निम्नलिखित को कालक्रमानुसार व्यवस्थित कीजिए :

- (i) सार्क की स्थापना
- (ii) यूरोपीय संघ की स्थापना
- (iii) आसियान की स्थापना
- (iv) चीन में कृषि का निजीकरण

सही विकल्प चुनिए :

- (a) (ii), (i), (iv), (iii)
- (b) (iii), (iv), (i), (ii)
- (c) (ii), (iv), (i), (iii)
- (d) (ii), (iv), (iii), (i)



General Instructions :

Read the following instructions very carefully and strictly follow them :

- (i) *This question paper contains **30** questions. **All** questions are **compulsory**.*
- (ii) *This question paper is divided into **five** sections – Section **A, B, C, D** and **E**.*
- (iii) *In **Section A** – Questions no. **1** to **12** are Multiple Choice (MCQ) type questions, carrying **1** mark each.*
- (iv) *In **Section B** – Questions no. **13** to **18** are Short Answer (SA) type questions, carrying **2** marks each. Answers to these questions should not exceed **50** words each.*
- (v) *In **Section C** – Questions no. **19** to **23** are Long Answer (LA) type questions, carrying **4** marks each. Answers to these questions should not exceed **100** words each.*
- (vi) *In **Section D** – Questions no. **24** to **26** are Passage, Cartoon and Map-based questions.*
- (vii) *In **Section E** – Questions no. **27** to **30** are Long Answer (LA) type questions, carrying **6** marks each. Answers to these questions should not exceed **170** words each.*
- (viii) *There is no overall choice in the question paper. However, an internal choice has been provided in few questions. Only **one** of the choices in such questions has to be attempted.*
- (ix) *In addition to this, separate instructions are given with each section and question, wherever necessary.*

SECTION A

*Questions no. **1** to **12** are Multiple Choice (MCQ) type questions, carrying **1** mark each.*

12×1=12

1. Arrange the following in chronological order :

- (i) Establishment of SAARC
- (ii) Establishment of European Union
- (iii) Establishment of ASEAN
- (iv) Privatisation of agriculture in China

Choose the correct option :

- (a) (ii), (i), (iv), (iii)
- (b) (iii), (iv), (i), (ii)
- (c) (ii), (iv), (i), (iii)
- (d) (ii), (iv), (iii), (i)



2. निम्नलिखित में से कौन-सी राजनीतिक पार्टी जनता के 'संसद मार्च' का हिस्सा नहीं थी, जिसका नेतृत्व जयप्रकाश नारायण ने 1975 में किया था ?
- भारतीय जनसंघ
 - भारतीय कम्यूनिस्ट पार्टी (M)
 - भारतीय लोक दल
 - समाजवादी पार्टी
3. 1989 के बाद, निम्नलिखित में से कौन-सी एक राजनीतिक घटना घटित हुई ?
- क्षेत्रीय राजनीति का अन्त
 - गठबन्धन की सरकारों के युग का प्रारंभ
 - कांग्रेस पार्टी का प्रभुत्व जारी रहा
 - जातिगत राजनीति की जमीन खिसक गई
4. कौन-से दो राज्यों में कांग्रेस पार्टी आपातकाल के बाद 1977 का आम चुनाव जीतने में सफल रही ?
- उत्तर प्रदेश और जम्मू कश्मीर
 - गुजरात और कर्नाटक
 - उड़ीसा और असम
 - कर्नाटक और तमिलनाडु
5. निम्नलिखित में से कौन-सी विशेषताएँ योजना आयोग और नीति आयोग में एक जैसी हैं ?
- दोनों गैर-संवैधानिक निकाय हैं ।
 - दोनों में राज्यों की भूमिका अहम है ।
 - दोनों में अध्यक्ष प्रधान मंत्री है ।
 - दोनों को धन आबंटित करने की शक्ति है ।
- सही विकल्प चुनिए :
- | | |
|-----------------------|------------------------|
| (a) केवल (ii) और (iv) | (b) केवल (ii) और (iii) |
| (c) केवल (i) और (iv) | (d) केवल (i) और (iii) |



2. Which among the following political parties was *not* a part of the Jayaprakash Narayan (JP) led peoples' march to Parliament in 1975 ?
- (a) Bharatiya Jana Sangh
 - (b) Communist Party of India (M)
 - (c) Bharatiya Lok Dal
 - (d) Socialist Party
3. After 1989, which one of the following political development happened ?
- (a) End of regional politics
 - (b) Era of coalition governments started
 - (c) Dominance of Congress Party continued
 - (d) Communal politics lost ground
4. In which pair of states did the Congress Party manage to win the General Election of 1977 after Emergency ?
- (a) Uttar Pradesh and Jammu and Kashmir
 - (b) Gujarat and Karnataka
 - (c) Orissa and Assam
 - (d) Karnataka and Tamil Nadu
5. Which of the following are the common features for both, the Planning Commission and NITI Aayog ?
- (i) Both are non-constitutional bodies.
 - (ii) Both have significant roles of states.
 - (iii) Both have the Prime Minister as chairperson.
 - (iv) Both have the power to allocate funds.

Choose the correct options :

- (a) (ii) and (iv) only
- (b) (ii) and (iii) only
- (c) (i) and (iv) only
- (d) (i) and (iii) only



6. निम्नलिखित में से कौन-सी देसी रियासत ने प्रारंभ में भारतीय संघ में शामिल होने का विरोध किया था ?
- (a) बड़ौदा (b) हैदराबाद
(c) मैसूर (d) ग्वालियर
7. उस देश की पहचान कीजिए, जो संवैधानिक राजतंत्र है और चारों तरफ से जमीन से घिरा हुआ है ।
- (a) नेपाल (b) अफगानिस्तान
(c) म्यांमार (d) भूटान
8. निम्नलिखित में से कौन-सा एक कथन ब्रिक्स का उद्देश्य *नहीं* है ?
- (a) अपने सदस्य राज्यों के बीच समान आर्थिक लाभ वितरित करना
(b) सदस्य राज्यों की आंतरिक नीतियों में हस्तक्षेप न करना
(c) एक अधिक न्यायसंगत और निष्पक्ष विश्व की स्थापना करना
(d) शांति व सुरक्षा को बढ़ावा देना
9. ए.ज़ैड. फिज़ो ने निम्नलिखित में से किस राज्य में एक आन्दोलन का नेतृत्व किया था ?
- (a) सिक्किम
(b) मणिपुर
(c) मिज़ोरम
(d) नागालैण्ड
10. भारत और इज़रायल निम्नलिखित में से किस एक क्षेत्र में परस्पर सहयोग कर रहे हैं ?
- (a) गरीबी उन्मूलन
(b) जनसंख्या नियन्त्रण
(c) विदेश नीति
(d) आतंकवाद का प्रतिरोध



6. Which one of the following Princely States initially opposed joining the Indian Union ?
- (a) Baroda (b) Hyderabad
(c) Mysore (d) Gwalior
7. Identify the country which is landlocked and has a constitutional monarchy.
- (a) Nepal (b) Afghanistan
(c) Myanmar (d) Bhutan
8. Which one of the following statements is **not** an objective of BRICS ?
- (a) To distribute equal economic benefits among its member-states
(b) Non-interference in the internal policies of member-states
(c) To establish a more equitable and fair world
(d) To promote peace and security
9. A.Z. Phizo led a movement in which one of the following States ?
- (a) Sikkim
(b) Manipur
(c) Mizoram
(d) Nagaland
10. In which one of the following fields are India and Israel cooperating with each other ?
- (a) Elimination of poverty
(b) Population control
(c) Foreign policy
(d) Counter terrorism



11. नीचे दो कथन दिए गए हैं — जिनमें एक को अभिकथन (A) तथा दूसरे को कारण (R) द्वारा अंकित किया गया है । इन कथनों को ध्यान से पढ़िए और नीचे दिए गए विकल्पों (a), (b), (c) और (d) में से उत्तर के रूप में सही विकल्प चुनिए ।

अभिकथन (A) : भारत ने महाशक्तियों पर व्यापक परमाणु निरस्त्रीकरण के लिए जोर दिया, लेकिन फिर भी भारत ने एन.पी.टी. के अनिश्चितकालीन विस्तार का विरोध किया और सी.टी.बी.टी. पर हस्ताक्षर करने से इंकार कर दिया ।

कारण (R) : ये संधियाँ विशेष रूप से गैर-परमाणु शक्तियों पर लागू होती थीं और परमाणु शक्ति-संपन्न पाँच शक्तियों के एकाधिकार को वैध बनाती थीं ।

- (a) अभिकथन (A) और कारण (R) दोनों सही हैं और कारण (R), अभिकथन (A) की सही व्याख्या करता है ।
- (b) अभिकथन (A) और कारण (R) दोनों सही हैं, परन्तु कारण (R), अभिकथन (A) की सही व्याख्या *नहीं* करता है ।
- (c) अभिकथन (A) सही है, परन्तु कारण (R) ग़लत है ।
- (d) अभिकथन (A) ग़लत है, परन्तु कारण (R) सही है ।

12. नीचे दो कथन दिए गए हैं — जिनमें एक को अभिकथन (A) तथा दूसरे को कारण (R) द्वारा अंकित किया गया है । इन कथनों को ध्यान से पढ़िए और नीचे दिए गए विकल्पों (a), (b), (c) और (d) में से उत्तर के रूप में सही विकल्प चुनिए ।

अभिकथन (A) : दक्षिण एशिया हर अर्थ में विविधता का प्रतीक है, फिर भी दक्षिण एशिया के विभिन्न देशों में एक जैसी राजनीतिक प्रणाली है ।

कारण (R) : कई समस्याओं और सीमाओं के बावजूद, सभी दक्षिण एशियाई देशों की जनता लोकतंत्र की आकांक्षाओं में सहभागी है ।

- (a) अभिकथन (A) और कारण (R) दोनों सही हैं और कारण (R), अभिकथन (A) की सही व्याख्या करता है ।
- (b) अभिकथन (A) और कारण (R) दोनों सही हैं, परन्तु कारण (R), अभिकथन (A) की सही व्याख्या *नहीं* करता है ।
- (c) अभिकथन (A) सही है, परन्तु कारण (R) ग़लत है ।
- (d) अभिकथन (A) ग़लत है, परन्तु कारण (R) सही है ।



11. Two statements are given below — one labelled as Assertion (A) and the other labelled as Reason (R). Read these statements carefully and choose the correct option as the answer from the options (a), (b), (c) and (d) given below.

Assertion (A) : India pleaded with the superpowers for comprehensive nuclear disarmament, yet India opposed the indefinite extension of the NPT and also refused to sign the CTBT.

Reason (R) : These treaties were selectively applicable to the non-nuclear powers and legitimised the monopoly of the five nuclear weapon powers.

- (a) Both Assertion (A) and Reason (R) are true and Reason (R) is the correct explanation of the Assertion (A).
- (b) Both Assertion (A) and Reason (R) are true, but Reason (R) is **not** the correct explanation of the Assertion (A).
- (c) Assertion (A) is true, but Reason (R) is false.
- (d) Assertion (A) is false, but Reason (R) is true.

12. Two statements are given below — one labelled as Assertion (A) and the other labelled as Reason (R). Read these statements carefully and choose the correct option as the answer from the options (a), (b), (c) and (d) given below.

Assertion (A) : South Asia stands for diversity in every sense, even then the various countries in South Asia have the same kind of political system.

Reason (R) : Despite many problems and limitations, all South Asian countries share the aspiration for democracy.

- (a) Both Assertion (A) and Reason (R) are true and Reason (R) is the correct explanation of the Assertion (A).
- (b) Both Assertion (A) and Reason (R) are true, but Reason (R) is **not** the correct explanation of the Assertion (A).
- (c) Assertion (A) is true, but Reason (R) is false.
- (d) Assertion (A) is false, but Reason (R) is true.



खण्ड ख

13. भारत में अन्य पिछड़े वर्गों के राजनीतिक उत्थान के किन्हीं दो कारणों का विश्लेषण कीजिए । $2 \times 1 = 2$
14. भारत की विदेश नीति के एक घटक के रूप में गुट-निरपेक्षता की नीति का मूल्यांकन कीजिए । 2
15. भूतपूर्व सोवियत संघ के किन्हीं चार गणराज्यों के नाम लिखिए । $4 \times \frac{1}{2} = 2$
16. 1969 में कांग्रेस पार्टी के औपचारिक विघटन के कोई दो कारण उजागर कीजिए । $2 \times 1 = 2$
17. दीनदयाल उपाध्याय द्वारा प्रतिपादित एकात्म मानववाद के किन्हीं दो सिद्धान्तों को उजागर कीजिए । $2 \times 1 = 2$
18. नीति आयोग के किन्हीं दो मुख्य कार्यों का उल्लेख कीजिए । $2 \times 1 = 2$

खण्ड ग

19. सुरक्षा की पारंपरिक और अपारंपरिक धारणा के बीच अंतर स्पष्ट कीजिए । $2 \times 2 = 4$
20. 2014 के चुनावों के बाद भारतीय राजनीति में आए किन्हीं चार बदलावों का वर्णन कीजिए । $4 \times 1 = 4$
21. मिज़ोरम में अलगाववादी आन्दोलन के किन्हीं दो कारणों को उजागर कीजिए । $2 \times 2 = 4$
22. दक्षिण एशिया के छोटे देशों और भारत के पारस्परिक सम्बन्धों का विश्लेषण कीजिए । 4
23. किसी देश की अर्थव्यवस्था पर वैश्वीकरण के किन्हीं दो प्रभावों को उजागर कीजिए । $2 \times 2 = 4$



SECTION B

13. Analyse any two reasons for the political rise of Other Backward Classes in India. $2 \times 1 = 2$
14. Evaluate the policy of Non-alignment as a component of India's foreign policy. 2
15. Name any four Republics of erstwhile USSR. $4 \times \frac{1}{2} = 2$
16. Highlight any two reasons for the formal split in the Congress Party in 1969. $2 \times 1 = 2$
17. Highlight any two principles of Integral Humanism advocated by Deen Dayal Upadhyaya. $2 \times 1 = 2$
18. State any two main functions of the NITI Aayog. $2 \times 1 = 2$


SECTION C

19. Differentiate between the traditional and non-traditional notions of security. $2 \times 2 = 4$
20. Describe any four changes in Indian politics after the 2014 elections. $4 \times 1 = 4$
21. Highlight any two reasons of the separatist movement in Mizoram. $2 \times 2 = 4$
22. Analyse the mutual relations between the smaller countries of South Asia and India. 4
23. Highlight any two effects of globalisation on the economy of a country. $2 \times 2 = 4$



खण्ड घ

24. नीचे दिए गए कार्टून का ध्यानपूर्वक अध्ययन कीजिए और दिए गए प्रश्नों के उत्तर दीजिए। $4 \times 1 = 4$




- (i) ऊपर दिए गए कार्टून का संबंध किस संगठन से है ?
- (a) आसियान (b) यूरोपीय संघ
(c) सार्क (d) ब्रिक्स
- (ii) दिया गया कार्टून निम्नलिखित में से किसके बारे में है ?
- (a) ग्लोबल वार्मिंग
(b) व्यापार समझौता करने में असफलता
(c) सदस्यों के लिए एक संविधान बनाने में असफलता
(d) पर्यावरण संरक्षण में असफलता
- (iii) कार्टून में दिखाया गया सितारों का वृत्त क्या दर्शाता है ?
- (a) संगठन के सदस्य देश
(b) संगठन की एकता
(c) संगठन की सफलता
(d) संगठन की संरचना



SECTION D

24. Study the cartoon given below carefully and answer the questions that follow.

4×1=4



- (i) The above cartoon is related to which organisation ?
- (a) ASEAN (b) European Union
(c) SAARC (d) BRICS
- (ii) The above cartoon is about which one of the following ?
- (a) Global warming
(b) Failure to make a trade agreement
(c) Failure to draft a common constitution
(d) Failure to protect the environment
- (iii) What does the circle of stars shown in the cartoon represent ?
- (a) Member-states of the organisation
(b) Unity of the organisation
(c) Success of the organisation
(d) Composition of the organisation



(iv) कार्टून से संबंधित संगठन की स्थापना किस वर्ष हुई थी ?

- (a) 1967 (b) 1985
(c) 1992 (d) 2006

नोट: निम्नलिखित प्रश्न केवल दृष्टिबाधित परीक्षार्थियों के लिए प्रश्न संख्या 24 के स्थान पर हैं: 4×1=4

(i) मार्शल योजना के तहत किस संगठन की स्थापना की गई थी ?

- (a) यूरोपीय परिषद्
(b) यूरोपीय आर्थिक सहयोग संगठन
(c) यूरोपीय समुदाय
(d) यूरोपीय आर्थिक समुदाय

(ii) मास्ट्रिस्ट संधि को अपनाने का किन दो देशों ने विरोध किया था ?

- (a) बुल्गेरिया, रोमानिया (b) ब्रिटेन, फ्रांस
(c) डेनमार्क, स्वीडन (d) पोलैंड, फिनलैंड

(iii) चीन ने अपनी अर्थव्यवस्था में सुधार लाने के लिए किस वर्ष में 'खुले द्वार' की नीति अपनाई ?

- (a) 1975 (b) 1977
(c) 1978 (d) 1979

(iv) कौन-से पाँच देशों का समूह आसियान के संस्थापक सदस्य थे ?

- (a) इंडोनेशिया, मलेशिया, फिलिपींस, सिंगापुर और थाईलैंड
(b) इंडोनेशिया, मलेशिया, फिलिपींस, थाईलैंड और ब्रुनेई
(c) इंडोनेशिया, फिलिपींस, सिंगापुर, थाईलैंड और ब्रुनेई
(d) इंडोनेशिया, मलेशिया, फिलिपींस, वियतनाम और थाईलैंड



- (iv) In which year was the organisation related to the cartoon established ?
- (a) 1967 (b) 1985
(c) 1992 (d) 2006

Note : *The following questions are for the **Visually Impaired Candidates** only, in lieu of Q. No. 24 :* **4×1=4**

- (i) Which organisation was established under the Marshall Plan ?
- (a) Council of Europe
(b) Organisation for European Economic Cooperation
(c) European Community
(d) European Economic Community
- (ii) Which two countries have resisted to adopt Maastricht Treaty ?
- (a) Bulgaria, Romania (b) Britain, France
(c) Denmark, Sweden (d) Poland, Finland
- (iii) China adopted the 'open door' policy to improve its economy in which year ?
- (a) 1975 (b) 1977
(c) 1978 (d) 1979
- (iv) Which set of five countries were the founders of ASEAN ?
- (a) Indonesia, Malaysia, Philippines, Singapore and Thailand
(b) Indonesia, Malaysia, Philippines, Thailand and Brunei
(c) Indonesia, Philippines, Singapore, Thailand and Brunei
(d) Indonesia, Malaysia, Philippines, Vietnam and Thailand



25. निम्नलिखित अवतरण का ध्यानपूर्वक अध्ययन कीजिए और दिए गए प्रश्नों के उत्तर लिखिए :

4×1=4

भारत के प्रथम प्रधान मंत्री ने राष्ट्रीय एजेंडा तय करने में महत्त्वपूर्ण भूमिका निभाई। वह विदेश मंत्री भी थे और उन्होंने भारत की विदेश नीति की रचना और क्रियान्वयन पर गहरा प्रभाव डाला। उनकी विदेश नीति के तीन बड़े उद्देश्य थे — कठिन संघर्ष से प्राप्त संप्रभुता को बचाए रखना, क्षेत्रीय अखण्डता को बनाए रखना, और तेज़ रफ्तार से आर्थिक विकास करना। वह इन उद्देश्यों को गुट-निरपेक्षता की नीति अपना कर हासिल करना चाहते थे। उन दिनों देश में कुछ राजनीतिक दल और समूह ऐसे भी थे जिनका मानना था कि भारत को अमरीकी खेमे के साथ ज्यादा नज़दीकी बढ़ानी चाहिए क्योंकि इस खेमे की प्रतिष्ठा लोकतंत्र के हिमायती के रूप में थी।

(i) भारतीय विदेश नीति का मुख्य निर्माता निम्नलिखित में से कौन था ?

- (a) बी.आर. अम्बेडकर (b) महात्मा गाँधी
(c) जवाहरलाल नेहरू (d) सरदार पटेल

(ii) निम्नलिखित में से कौन-सा भारत की विदेश नीति का उद्देश्य है ?

- (a) अपने हितों की रक्षा करना
(b) लोकतंत्र का संरक्षण
(c) अपनी सशस्त्र सेनाओं को मज़बूत करना
(d) महाशक्ति बनना

(iii) गुट-निरपेक्षता का अर्थ है _____।

- (a) तटस्थता (b) अहस्तक्षेप
(c) पृथक्तावाद (d) किसी शक्ति गुट से नहीं जुड़ना

(iv) किनका मानना था कि भारत को अमरीका के नेतृत्व वाले खेमे के साथ अधिक मित्रवत होना चाहिए ?

- (a) भारतीय जनसंघ (b) स्वतंत्र पार्टी
(c) बी.आर. अम्बेडकर (d) उपर्युक्त सभी



25. Read the following passage carefully and answer the questions that follow : $4 \times 1 = 4$

The first Prime Minister of India played a crucial role in setting the national agenda. He was foreign minister also and exercised profound influence in the formulation and implementation of India's foreign policy. The three major objectives of his foreign policy were to preserve the hard-earned sovereignty, protect territorial integrity and promote rapid economic development. He wished to achieve these objectives through the strategy of non-alignment. There were parties and groups in the country that believed that India should be more friendly with the bloc led by the US because that bloc claimed to be pro-democracy.

- (i) Who was the main architect of India's foreign policy ?
- (a) B.R. Ambedkar (b) Mahatma Gandhi
(c) Jawaharlal Nehru (d) Sardar Patel
- (ii) Which one of the following is an objective of India's foreign policy ?
- (a) To pursue its national interest
(b) To preserve democracy
(c) To strengthen its Armed forces
(d) To become a superpower
- (iii) Non-alignment means _____.
- (a) to remain neutral (b) non-interference
(c) to remain isolated (d) not joining any power bloc
- (iv) Who believed that India should be more friendly with the bloc led by the US ?
- (a) Bharatiya Jana Sangh (b) Swatantra Party
(c) B.R. Ambedkar (d) All of the above



26. भारत के दिए गए राजनीतिक रेखा-मानचित्र (पृष्ठ 19 पर) में चार राज्यों को (A), (B), (C) तथा (D) के द्वारा अंकित किया गया है। नीचे दी गई जानकारी के आधार पर इन राज्यों की पहचान कीजिए और अपनी उत्तर-पुस्तिका में इनके सही नाम, प्रयोग की गई जानकारी की क्रम-संख्या तथा मानचित्र में दिया गया संबंधित अक्षर, नीचे दी गई तालिका के रूप में लिखिए :

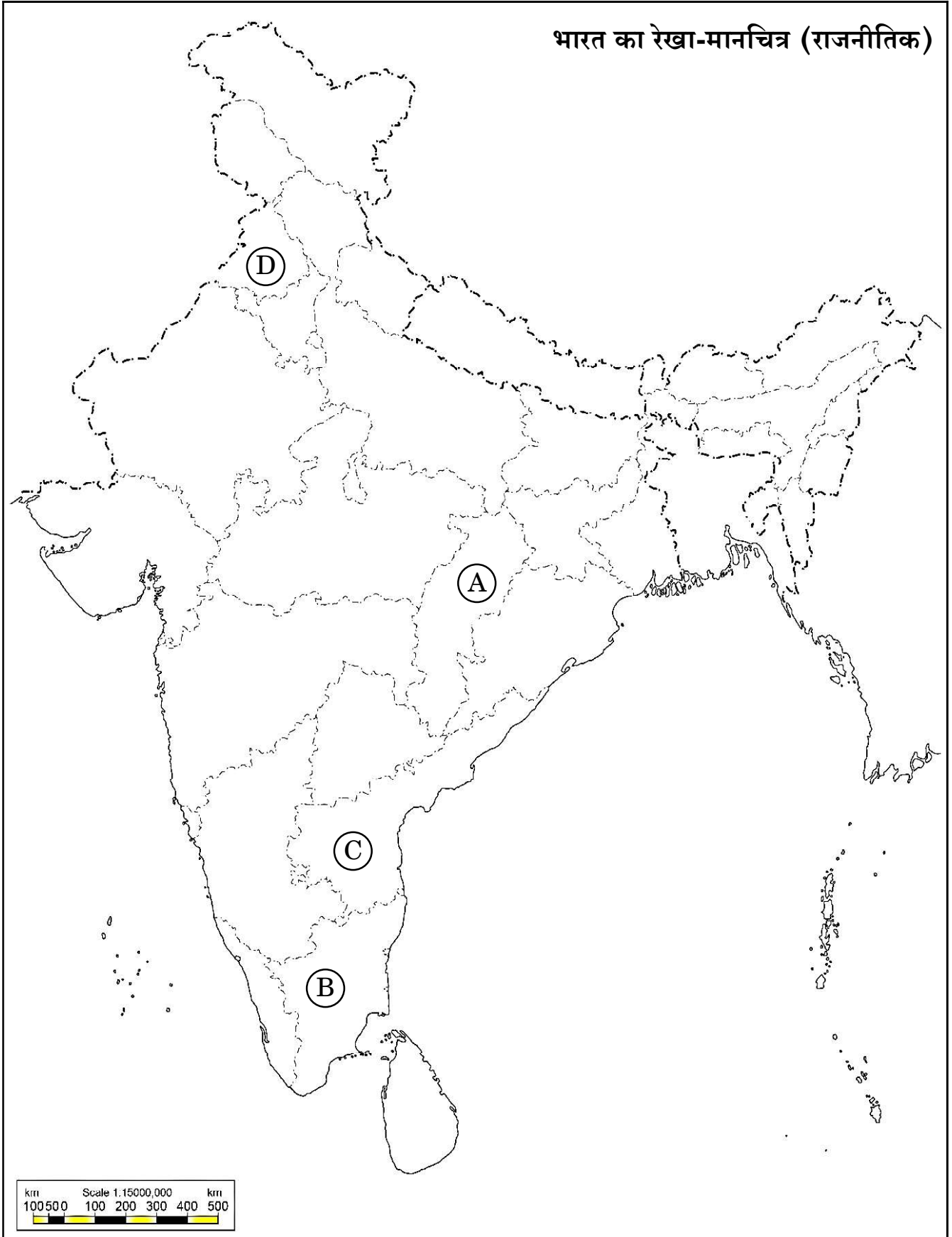
4×1=4

प्रयोग की गई जानकारी की क्रम-संख्या	मानचित्र में संबंधित अक्षर	राज्य का नाम
(i)		
(ii)		
(iii)		
(iv)		

- (i) वह राज्य जिसे स्वतंत्रता के समय 'मद्रास' कहा जाता था।
- (ii) असंतुलित विकास के आधार पर निर्मित राज्य।
- (iii) वह राज्य जिसको 1947 में विभाजित किया गया था।
- (iv) 1952 में गठित पहला राज्य।



प्रश्न सं. 26 के लिए





26. In the given political outline map of **India** (on page 21), four States have been marked as (A), (B), (C) and (D). Identify these States on the basis of the information given below and write their correct names in your answer-book along with the respective serial number of the information used and the concerned alphabets given in the map as per the following format :

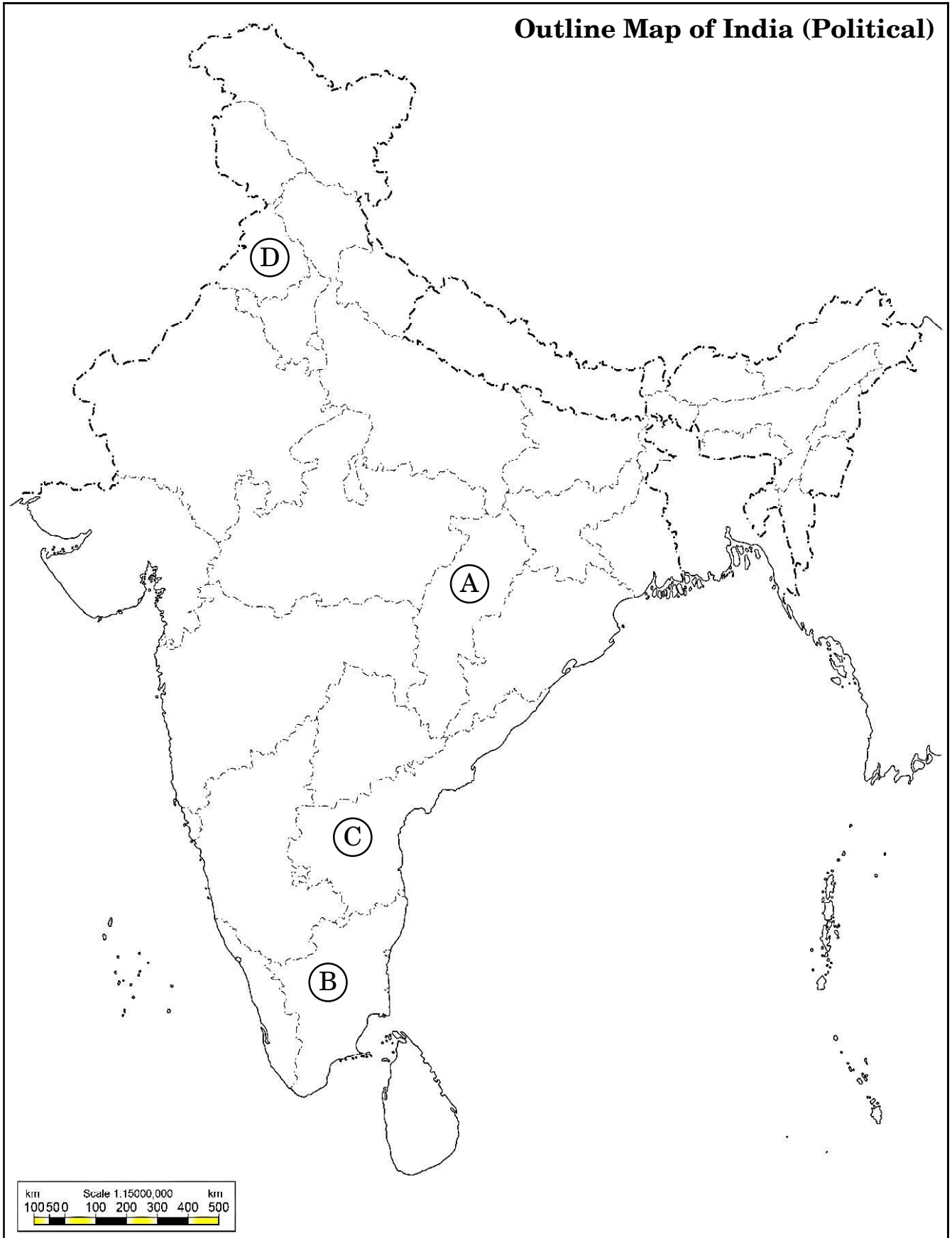
4×1=4

Serial number of the information used	Concerned alphabet in the map	Name of the State
(i)		
(ii)		
(iii)		
(iv)		

- (i) The State which was called 'Madras' at the time of Independence.
- (ii) The State formed on the basis of imbalanced development.
- (iii) The State which was partitioned in 1947.
- (iv) The first State created in 1952.



For question no. 26





नोट: निम्नलिखित प्रश्न केवल दृष्टिबाधित परीक्षार्थियों के लिए प्रश्न संख्या 26 के स्थान पर हैं:

4×1=4

- (i) 'बॉम्बे' राज्य का विभाजन करके कौन-से दो राज्य बनाए गए थे ?
- (ii) पूर्व में 'मद्रास' कहलाए जाने वाले राज्य का वर्तमान नाम क्या है ?
- (iii) उत्तराखण्ड किस राज्य से काट कर बनाया गया है ?
- (iv) उस राज्य का नाम लिखिए जिसे मध्य प्रदेश से काट कर बनाया गया है ।

खण्ड ड

27. (क) संयुक्त राष्ट्रसंघ सुरक्षा परिषद् के नए सदस्यों के लिए प्रस्तावित किन्हीं चार मापदण्डों का परीक्षण कीजिए । $4 \times 1 \frac{1}{2} = 6$
अथवा
- (ख) बदलते हुए संदर्भ में संयुक्त राष्ट्रसंघ को अधिक प्रासंगिक बनाने के लिए 2005 में सदस्य देशों के प्रमुखों द्वारा सुझाए गए किन्हीं चार कदमों का विश्लेषण कीजिए । $4 \times 1 \frac{1}{2} = 6$
28. (क) अधिकांश पूर्व सोवियत गणराज्यों को संघर्षों और खतरों की ओर उन्मुख करने वाले किन्हीं तीन कारकों का वर्णन कीजिए । $3 \times 2 = 6$
अथवा
- (ख) मिखाइल गोर्बाचेव को सोवियत संघ में सुधार लाने के लिए मजबूर करने वाले कोई तीन कारण स्पष्ट कीजिए । $3 \times 2 = 6$
29. (क) "भारत में 1952 का आम चुनाव विश्व में लोकतंत्र के इतिहास में एक मील का पत्थर था ।" कथन के पक्ष में कोई तीन तर्क दीजिए । $3 \times 2 = 6$
अथवा
- (ख) 'प्रिवी पर्स' से क्या अभिप्राय है ? 1970 में इंदिरा गाँधी ने इसे समाप्त करने पर क्यों जोर दिया ? किन्हीं दो कारणों का विश्लेषण कीजिए । $2 + 4 = 6$
30. (क) वैश्विक राजनीति की किन्हीं चार महत्त्वपूर्ण पर्यावरणीय चिन्ताओं को उजागर कीजिए । $4 \times 1 \frac{1}{2} = 6$
अथवा
- (ख) वैश्वीकरण के किन्हीं चार आर्थिक परिणामों को उजागर कीजिए । $4 \times 1 \frac{1}{2} = 6$



Note : The following questions are for the **Visually Impaired Candidates** only, in lieu of Q. No. 26 : 4×1=4

- (i) Which two States were created by dividing 'Bombay' State ?
- (ii) What is the present name of former 'Madras' State ?
- (iii) Uttarakhand was carved out of which State ?
- (iv) Name the State which was carved out of Madhya Pradesh.

SECTION E

27. (a) Examine any four criteria proposed for new members of the UN Security Council. 4×1 $\frac{1}{2}$ =6

OR

(b) Analyse any four steps suggested by the heads of the member states in 2005 to make the United Nations more relevant in the changing context. 4×1 $\frac{1}{2}$ =6

28. (a) Describe any three factors that make most of the former Soviet Republics prone to conflicts and threats. 3×2=6

OR

(b) Explain any three reasons that forced Mikhail Gorbachev to initiate reforms in the Soviet Union. 3×2=6

29. (a) "The general elections of 1952 in India were a landmark in the history of democracy in the world." Support the statement with any three arguments. 3×2=6

OR

(b) What is meant by 'Privy Purse' ? Why did Indira Gandhi insist on abolishing it in 1970 ? Analyse any two reasons. 2+4=6

30. (a) Highlight any four environmental concerns that have become important in global politics. 4×1 $\frac{1}{2}$ =6

OR

(b) Highlight any four economic consequences of globalisation. 4×1 $\frac{1}{2}$ =6