

परीक्षा पुस्तिका संख्या  
Test Booklet No. :

Subject : SOCIAL SCIENCE

Test Booklet Code

विषय : सामाजिक विज्ञान

परीक्षा पुस्तिका संकेत

501237

Read carefully the Instructions on the Back Cover of this Test Booklet.  
इस परीक्षा पुस्तिका के पिछले आवरण पर दिए गए निर्देशों को ध्यान से पढ़ें।



Time Allowed : 2.5 Hours

Maximum Marks : 100

निर्धारित समय : 2.5 घंटे

अधिकतम अंक : 100

**Important Instructions :**

- The Answer Sheet is inside this Booklet. When you are directed to open the Test Booklet, take out the Answer Sheet and fill in the particulars on Side 1 and Side 2 carefully with blue/black ball point pen only.
- This question paper consists of 40 pages and contains 60 questions. All questions are compulsory.
- Use blue/black ball point pen only for writing particulars and marking responses in the Answer Sheet.
- On completion of the test the candidates must hand over the Answer Sheet to the invigilator in the room/hall. The candidates are allowed to take away this Test Booklet with them.
- The candidates should ensure that the Answer Sheet is not folded. Do not make any stray mark on the Answer Sheet.
- All questions are Multiple Choice Questions. Each multiple choice question has four options out of which only ONE option is correct. Each correct answer earns a credit of 2 marks. A wrong answer carries a penalty of - 2/3 mark.
- An unanswered question earns no mark.

Apart from filling in bubbles for answers and roll number, do not write anything else on the Answer Sheet.

**Roll Number :** The following example illustrates the correct way of writing your Roll Number.

**Example :** Suppose your roll number is 2093184. Write it out in the box provided at the top of the grid in the Answer Sheet. Then for every digit in the roll number, fill in the appropriate bubble in the corresponding column, as shown.

	2	0	9	3	1	8	4
0		●					
1	●						
2							
3							
4							
5							
6							
7							
8							
9							

**महत्त्वपूर्ण निर्देश :**

- उत्तर-पत्र इस पुस्तिका के अंदर है। जब आपको परीक्षा पुस्तिका खोलने को कहा जाए तब उत्तर-पत्र को बाहर निकालिए तथा साइड-1 व साइड-2 पर सभी प्रविष्टियाँ सावधानी से केवल नीले/काले बॉल पाइंट पेन से भरें।
- इस प्रश्न पत्र में 40 पृष्ठ हैं जिनमें 60 प्रश्न दिए गए हैं। सभी प्रश्न अनिवार्य हैं।
- प्रविष्टियाँ भरने के लिए तथा उत्तर-पत्र पर अपने उत्तर निर्दिष्ट करने के लिए केवल नीले/काले बॉल पाइंट पेन का प्रयोग करें।
- परीक्षा की समाप्ति पर परीक्षार्थी उत्तर-पत्र को परीक्षा कक्ष में निरीक्षक को अवश्य सौंप दें। परीक्षार्थी को परीक्षा पुस्तिका अपने साथ ले जाने की अनुमति है।
- परीक्षार्थी यह सुनिश्चित करें कि उत्तर-पत्र मुड़े नहीं। उत्तर-पत्र पर किसी प्रकार का अवांछित चिह्न अंकित न करें।
- सभी प्रश्न बहुविकल्पी प्रश्न हैं। प्रत्येक बहुविकल्पी प्रश्न के चार विकल्प दिए गए हैं, जिनमें केवल एक विकल्प ही सही है। प्रत्येक सही उत्तर के 2 अंक हैं। गलत उत्तर देने के दंड के रूप में - 2/3 अंक काटे जाएंगे।
- जिन प्रश्नों का उत्तर नहीं दिया गया है, उनके लिए कोई अंक नहीं दिया जाएगा।

अपने उत्तरों एवं अनुक्रमांक के अतिरिक्त उत्तर-पत्र पर अन्य कुछ भी न लिखें।

**अनुक्रमांक :** नीचे दिए गए उदाहरण में आपको अनुक्रमांक लिखने की सही विधि समझाई गई है।

**उदाहरण :** मान लीजिए आपका अनुक्रमांक 2093184 है। उत्तर-पत्र में शीर्ष पर दी गई ग्रिड में इसे लिखिए। इसके पश्चात् अनुक्रमांक के प्रत्येक अंक के लिए, दर्शाए अनुसार, तदनुसारी कॉलम में दिए गए उपयुक्त गोलों को भरिए।

	2	0	9	3	1	8	4
0		●					
1	●						
2							
3							
4							
5							
6							
7							
8							
9							

Name of the Candidate (in Capital letters) : \_\_\_\_\_

परीक्षार्थी का नाम (बड़े अक्षरों में) : \_\_\_\_\_

Roll Number (in Figures) \_\_\_\_\_

अनुक्रमांक (अंकों में) : \_\_\_\_\_

(In Words) (शब्दों में) : \_\_\_\_\_

Examination Centre Number (परीक्षा केन्द्र क्रमांक) \_\_\_\_\_

Name of Examination Centre (in Capital letters) : \_\_\_\_\_

परीक्षा केन्द्र का नाम (बड़े अक्षरों में) : \_\_\_\_\_

Candidate's Signature : \_\_\_\_\_

परीक्षार्थी के हस्ताक्षर : \_\_\_\_\_

Invigilator's Signature : \_\_\_\_\_

निरीक्षक के हस्ताक्षर : \_\_\_\_\_

Do not open this Test Booklet until you are asked to do so. (इस परीक्षा पुस्तिका को तब तक न खोलें जब तक कहा न जाए।)

SEAL

1. What was common in the status of women before the Revolutions in Russia and France ?
  - (A) Equal political status denied
  - (B) Economically inferior
  - (C) Socially rejected
  - (D) Ignorant and uneducated
2. How did Jean Dupuis, the man seated, change the history of Vietnam ?



- (A) Employed indentured labour for the plantations
  - (B) Persuaded the French to establish a base in Vietnam
  - (C) Taught local people to fight and bought guns
  - (D) Ruled over locals and did land reforms
3. What aspect of the life of the forest people did **not** get affected by the forest laws ?
    - (A) Hunting activities
    - (B) Shifting cultivation
    - (C) Grazing grounds
    - (D) Organisations for rebellions

1. रूस और फ्रांस में, क्रांति से पहले महिलाओं की स्थिति में क्या समानता थी ?
  - (A) बराबरी का राजनीतिक दर्जा नहीं दिया गया
  - (B) आर्थिक रूप से हीन
  - (C) सामाजिक रूप से तिरस्कृत
  - (D) अज्ञानी और अशिक्षित
2. चित्र में बैठे व्यक्ति, जीन डूप्स, ने वियतनाम के इतिहास को किस प्रकार बदल दिया ?



- (A) अनुबंध व्यवस्था के तहत मजदूरों को बागानों में काम पर लगाया
  - (B) फ्रांसीसियों को वियतनाम में अपने अड्डे खोलने के लिए तैयार किया
  - (C) स्थानीय लोगों को लड़ना सिखाया और बंदूकें खरीदीं
  - (D) स्थानीय लोगों पर शासन किया और भूमि सुधार किए
3. वनों में रहने वाले लोगों के जीवन के किस पक्ष पर वनों के कानूनों का प्रभाव **नहीं** पड़ा ?
    - (A) शिकार सम्बंधी गतिविधियाँ
    - (B) स्थानान्तरी कृषि
    - (C) चरागाह भूमि
    - (D) विद्रोह के लिए संगठन

4. What did the following statement mean ?  
"Plant more wheat, wheat will win the war" President Wilson.
- (A) Price of wheat in Europe declined, so farmers stopped growing wheat
  - (B) The new soils of USA were fertile and higher production was possible
  - (C) Russian supplies were cut off during First World War, so USA had to feed Europe
  - (D) Grain production in Europe could not meet their needs
5. Who made cricket a marketable game ?
- (A) Kerry Packer
  - (B) Frank Worrell
  - (C) Don Bradman
  - (D) Wisden
6. What was common between the women novelists of the 19<sup>th</sup> and 20<sup>th</sup> centuries of Europe and India ?
- (A) Followed the norms laid by men in the society
  - (B) Were independent and assertive
  - (C) Wrote novels which were not read for pleasure
  - (D) Were trying to do creative writing for pleasure
7. What encouraged people to migrate to Bombay in the late nineteenth century ?
- (A) Junction of two major railway systems
  - (B) Open spaces to settle in the new city
  - (C) Better opportunity to fulfil needs
  - (D) Good roads from rural areas
8. Which one of the following was **not** a part of Mahatma Gandhi's experiment with clothing ?
- (A) A loin cloth and chaddar
  - (B) Lungi and Kurta
  - (C) Western suit
  - (D) Saffron clothes
9. Who among the following was an undemocratic leader ?
- (A) Augusto Pinochet
  - (B) Salvador Allende
  - (C) Lech Walesa
  - (D) Michelle Bachelet

4. निम्नलिखित कथन का क्या अर्थ था ?  
 “और अधिक गेहूँ उगाओ, गेहूँ युद्ध जीतेगा” राष्ट्रपति विल्सन ।
- (A) यूरोप में गेहूँ की कीमत कम हो गई, अतः किसानों ने गेहूँ पैदा करना बंद कर दिया  
 (B) संयुक्त राज्य अमेरिका की नई मिट्टियाँ उपजाऊ थीं तथा अधिक उत्पादन संभव था  
 (C) प्रथम विश्व युद्ध के दौरान रूसी आपूर्ति बंद हो गई थी, अतः यूरोप का पेट भरने की जिम्मेदारी संयुक्त राज्य अमेरिका की थी  
 (D) यूरोप में अनाज का उत्पादन उनकी आवश्यकताएँ पूरी नहीं कर सकता था
5. किसने क्रिकेट को विक्री-योग्य खेल बनाया ?
- (A) कैरी पैकर (B) फ्रैंक वॉरेल  
 (C) डॉन ब्रैडमैन (D) विज़डेन
6. 19वीं और 20वीं शताब्दियों की यूरोप और भारत की महिला उपन्यासकारों में क्या समानता थी ?
- (A) समाज में पुरुषों द्वारा निर्धारित मानदंडों का पालन किया  
 (B) स्वतंत्र और रोबदार थीं  
 (C) ऐसे उपन्यास लिखे, जो मनोरंजन के लिए नहीं पढ़े जाते थे  
 (D) मनोरंजन के लिए रचनात्मक लेखन के लिए प्रयत्नशील थीं
7. उन्नीसवीं शताब्दी के अन्तिम वर्षों में लोगों को बंबई आने के लिए किसने प्रोत्साहित किया ?
- (A) दो मुख्य रेल-तंत्रों का जंक्शन  
 (B) नए नगर में बसने के लिए खाली स्थान  
 (C) आवश्यकताओं को पूरा करने के लिए बेहतर अवसर  
 (D) ग्रामीण क्षेत्रों से अच्छी सड़कें
8. निम्नलिखित में से कौन-सा, महात्मा गांधी के पोशाक-प्रयोग का भाग **नहीं** था ?
- (A) लंगोटी और चादर (B) लुंगी और कुर्ता  
 (C) पश्चिमी सूट (D) केसरिया कपड़े
9. निम्नलिखित में से कौन अलोकतांत्रिक नेता था ?
- (A) ऑगस्तो पिनेरो (B) साल्वाडोर आलेंदे  
 (C) लेक वालेसा (D) मिशेल बैशेले

10. The making of the Constitution of India was *not* influenced by
- (A) French Revolution
  - (B) British Parliamentary democracy
  - (C) American Bill of Rights
  - (D) Constitution of South Africa
11. Who among the following elect Members of the Rajya Sabha ?
- (A) Members of Lok Sabha
  - (B) Voters in Parliamentary Constituency
  - (C) Members of Legislative Assemblies
  - (D) Members of Legislative Councils
12. Which of the following institutions is approached by citizens to protect their Fundamental Rights ?
- (A) Judiciary
  - (B) Executive
  - (C) Legislature
  - (D) Media
13. Which one of the following forms of power sharing is called vertical division of power ?
- (A) When power is shared among different organs of the Government
  - (B) When power is shared among governments at different levels
  - (C) When power is shared among different social groups
  - (D) When power is shared among political parties, pressure groups and movements
14. Which type of society is called a homogeneous society ?
- (A) That has ethnic differences
  - (B) That has migratory population
  - (C) That has similar kinds of people
  - (D) That has many social divisions
15. Identify the situation in which the Constitution allows the state to intervene in the matters of religion.
- (A) To ensure equality within religious communities
  - (B) To appease the followers of a particular community
  - (C) To reap political favour
  - (D) For religion based mobilisation

10. भारत के संविधान का निर्माण किससे प्रभावित **नहीं** हुआ था ?
- (A) फ्रांसीसी क्रान्ति से  
 (B) ब्रिटिश संसदीय लोकतंत्र से  
 (C) अमेरिकी अधिकार पत्र से  
 (D) दक्षिण अफ्रीका के संविधान से
11. निम्नलिखित में से कौन राज्य सभा के सदस्यों को चुनते हैं ?
- (A) लोक सभा के सदस्य  
 (B) संसदीय निर्वाचन क्षेत्र के मतदाता  
 (C) विधान सभाओं के सदस्य  
 (D) विधान परिषदों के सदस्य
12. अपने मौलिक अधिकारों की रक्षा के लिए नागरिक निम्नलिखित में से किस संस्था का सहारा लेते हैं ?
- (A) न्यायपालिका (B) कार्यपालिका  
 (C) विधायिका (D) मीडिया
13. सत्ता की साझेदारी के निम्नलिखित रूपों में से किसको सत्ता का ऊर्ध्वधर वितरण कहा जाता है ?
- (A) जब सरकार के विभिन्न अंगों में सत्ता की साझेदारी होती है  
 (B) जब सरकार के विभिन्न स्तरों में सत्ता की साझेदारी होती है  
 (C) जब सत्ता की साझेदारी विभिन्न सामाजिक समूहों के बीच होती है  
 (D) जब सत्ता की साझेदारी राजनीतिक दलों, दबाव समूहों और आंदोलनों के बीच होती है
14. किस प्रकार के समाज को समरूप समाज कहा जाता है ?
- (A) जिसमें जातीय विभिन्नताएँ होती हैं  
 (B) जिसमें प्रवासी जनसंख्या होती है  
 (C) जिसमें एक प्रकार के लोग होते हैं  
 (D) जिसमें अनेक सामाजिक विभाजन होते हैं
15. उस स्थिति की पहचान कीजिए, जब संविधान राज्य को धार्मिक मामलों में दखल देने का अधिकार देता है ।
- (A) धार्मिक समुदायों में समानता सुनिश्चित करने के लिए  
 (B) किसी समुदाय विशेष के अनुयायियों की तुष्टी के लिए  
 (C) राजनीतिक लाभ लेने के लिए  
 (D) धर्म-आधारित संघटन के लिए

16. Since most of the elected members belong to a political party, they go by
- (A) public opinion
  - (B) their personal motives
  - (C) their financial gains
  - (D) the direction of the party leadership
17. Which statement about Self Help Groups (SHGs) is *incorrect* ?
- (A) SHGs don't help to overcome the problem of collateral
  - (B) The rate of interest charged is reasonable
  - (C) There is group responsibility for repayment
  - (D) Members save according to their ability
18. Why can the buyers bargain with the seller to sell a product below the MRP ?
- (A) MRP makes the product very expensive
  - (B) MRP includes indirect taxes
  - (C) MRP includes the profit margin of the seller
  - (D) MRP is printed on all products
19. Which one of the following statements about globalisation is *incorrect* ?
- (A) Goods become expensive for local consumers
  - (B) Local producers face competition from foreign goods
  - (C) Buyers have a greater variety to choose from
  - (D) Foreign products are readily available to local consumers
20. Why are women, female infants and elderly people regarded as poorest of the poor ?
- (A) They are physically weak
  - (B) They are economically dependent
  - (C) They are socially exploited
  - (D) They are denied equal access to resources

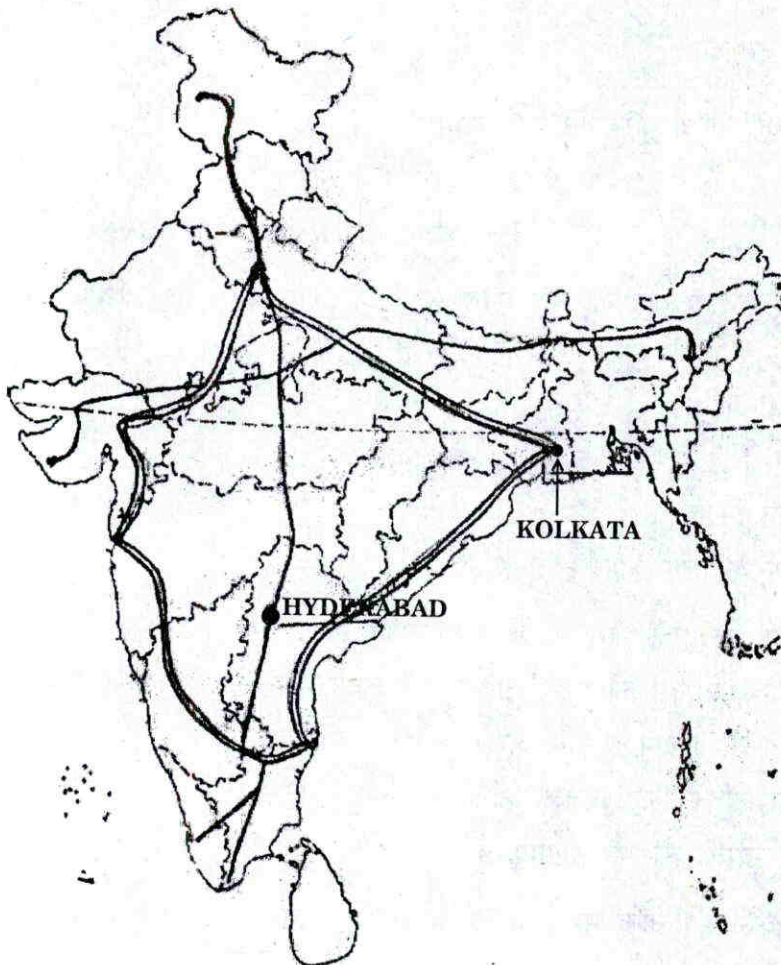


16. क्योंकि अधिकतर चुने हुए सदस्य किसी न किसी राजनीतिक दल से जुड़े होते हैं, अतः वे
- जनता की राय का ध्यान रखते हैं
  - अपने व्यक्तिगत उद्देश्यों का ध्यान रखते हैं
  - अपने आर्थिक लाभ का ध्यान रखते हैं
  - दल के नेतृत्व के दिशा-निर्देशों का पालन करते हैं
17. कौन-सा कथन 'स्वयं सहायता समूहों' के विषय में **सही नहीं** है ?
- स्वयं सहायता समूह ऋणाधार की समस्या को हल करने में मदद नहीं करते हैं
  - ब्याज-दर उचित होती है
  - ऋण को लौटाने की जिम्मेदारी भी समूह की होती है
  - सदस्य अपनी क्षमता के अनुसार बचत करते हैं
18. उत्पाद को न्यूनतम खुदरा मूल्य से कम पर बेचने के लिए क्रेता, विक्रेता से क्यों मोल-तोल कर सकते हैं ?
- न्यूनतम खुदरा मूल्य उत्पाद को बहुत महँगा कर देता है
  - न्यूनतम खुदरा मूल्य में अप्रत्यक्ष कर शामिल होते हैं
  - न्यूनतम खुदरा मूल्य में विक्रेता का लाभांश शामिल होता है
  - न्यूनतम खुदरा मूल्य सभी उत्पादों पर छपा होता है
19. वैश्वीकरण के विषय में निम्नलिखित कथनों में से कौन-सा **गलत** है ?
- स्थानीय उपभोक्ताओं के लिए वस्तुएँ महँगी हो जाती है
  - स्थानीय उत्पादकों को विदेशी वस्तुओं से प्रतिस्पर्धा झेलनी पड़ती है
  - क्रेताओं को अपनी पसंद के लिए बहुत विविधता मिल जाती है
  - स्थानीय उपभोक्ताओं को विदेशी उत्पाद सुगमता से मिल जाते हैं
20. स्त्रियों, बच्चियों और वृद्ध लोगों को 'निर्धनों में भी निर्धन' क्यों समझा जाता है ?
- वे शरीर की दृष्टि से कमजोर होते हैं
  - वे आर्थिक रूप से आश्रित होते हैं
  - वे सामाजिक रूप से शोषित होते हैं
  - वे संसाधनों के समान उपभोग से वंचित होते हैं

21. Which of the following is a market activity ?
- (A) Kitchen gardening
  - (B) Mother cooking for family
  - (C) Buying a bus ticket
  - (D) Production for self-consumption
22. Which of the following is an example of fixed capital asset ?
- (A) Raw materials
  - (B) Generator
  - (C) Electricity
  - (D) Skilled labour
23. Which one of the following statements supports that Reenu is working in the unorganized sector ?
- (A) Reenu doesn't have job security
  - (B) Reenu is a regular employee
  - (C) Reenu gets regular salary
  - (D) Reenu works for a registered firm
24. Why are fertilizer plants mostly located in the Ganga Plain and Eastern India ?
- (A) Easy supply of raw material from pipelines of gas from petroleum producing areas
  - (B) There is development of roads, godowns and nearness to good farming areas
  - (C) There is uninterrupted power supply for setting up fertilizer plants
  - (D) There is greater demand for fertilizers in these regions of the country
25. Which one of the following statements best justifies the naming of the Indian Ocean ?
- (A) It belongs to India only
  - (B) It was named by an Indian king
  - (C) It is the largest ocean near India
  - (D) India holds an eminent position in the Indian Ocean
26. The entire drainage basin comprises of undulating country, a series of ridges and valleys, with low hill ranges. Large flat areas are scarce except in the delta. This description would be most likely for which river basin ?
- (A) Godavari
  - (B) Narmada
  - (C) Ganga
  - (D) Mahanadi

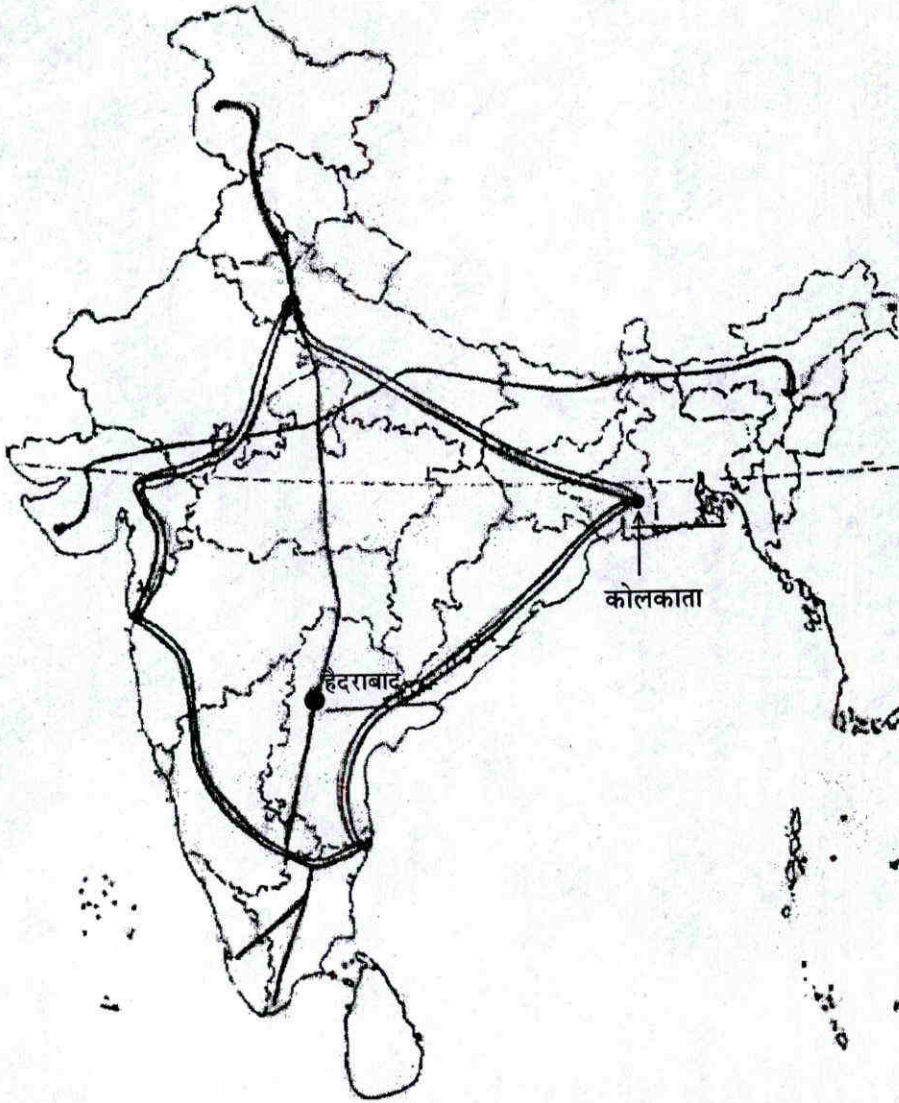
21. निम्नलिखित में से कौन-सी विपणन गतिविधि है ?
- (A) गृह वाटिका में सब्जियाँ पैदा करना  
 (B) माँ के द्वारा परिवार के लिए भोजन बनाना  
 (C) बस के लिए टिकट खरीदना  
 (D) स्व-उपभोग के लिए उत्पादन
22. निम्नलिखित में से कौन-सा स्थायी पूँजी परिसंपत्ति का उदाहरण है ?
- (A) कच्चा माल (B) जनित्र (जैनेरेटर)  
 (C) बिजली (D) कुशल श्रमिक
23. निम्नलिखित कथनों में से कौन-सा इस बात की पुष्टि करता है कि रीनू असंगठित क्षेत्रक में काम कर रही है ?
- (A) रीनू की नौकरी सुरक्षित नहीं है  
 (B) रीनू नियमित कर्मचारी है  
 (C) रीनू को नियमित वेतन मिलता है  
 (D) रीनू एक पंजीकृत फर्म के लिए काम करती है
24. उर्वरक कारखाने गंगा के मैदान और पूर्वी भारत में ही क्यों लगाए गए हैं ?
- (A) पेट्रोलियम उत्पादक क्षेत्रों से गैस की पाइप-लाइनों द्वारा कच्चे माल की सहज आपूर्ति  
 (B) यहाँ सड़कें सुविकसित हैं, गोदाम हैं और अच्छे कृषि क्षेत्र की निकटता है  
 (C) यहाँ उर्वरकों के कारखानों के लिए बिजली की निरंतर आपूर्ति होती है  
 (D) देश के इन क्षेत्रों में उर्वरकों की माँग अधिक है
25. निम्नलिखित कथनों में से कौन-सा, हिन्द महासागर के नामकरण के विषय में सर्वाधिक न्यायसंगत है ?
- (A) इसका संबंध केवल भारत से है  
 (B) इसका नामकरण एक भारतीय राजा ने किया था  
 (C) यह भारत के निकट, सबसे बड़ा महासागर है  
 (D) हिन्द महासागर में भारत की स्थिति श्रेष्ठ है
26. संपूर्ण अपवाह द्रोणी तरंगित क्षेत्र में फैली है, कटकों और घाटियों की शृंखलाएँ हैं, और साथ में कम ऊँचाई वाली पहाड़ी श्रेणियाँ। डेल्टा क्षेत्र को छोड़कर, विशाल समतल क्षेत्र, कम हैं। यह विवरण किस नदी द्रोणी के बारे में है ?
- (A) गोदावरी (B) नर्मदा  
 (C) गंगा (D) महानदी

27. A group of travellers wanting to go from Kolkata to Hyderabad had to choose a new route as there is a cyclone warning in the Bay of Bengal. Which is the shortest road route, the travel agency would take ? Study the map and select the shortest route.



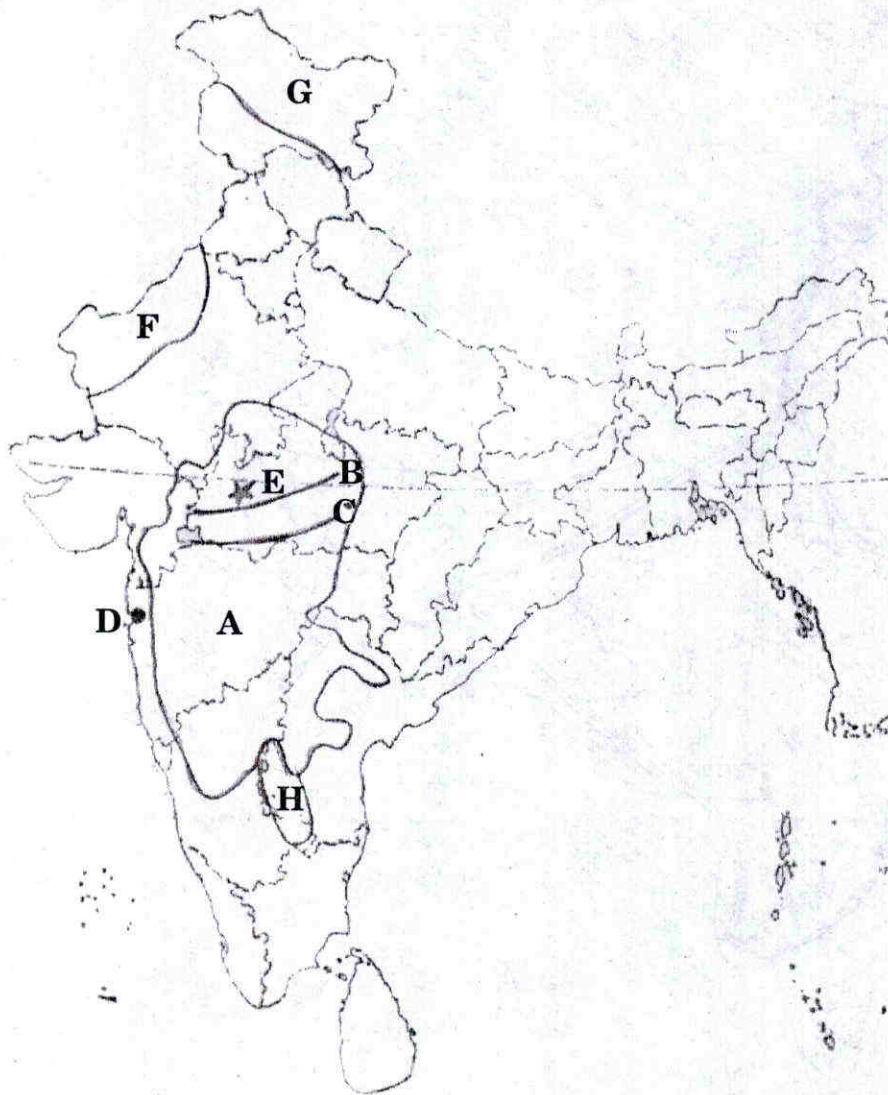
- (A) Kolkata to Agra on the Golden Quadrilateral and Agra to Hyderabad on the North-South Corridor
- (B) Kolkata to Delhi on the Golden Quadrilateral and Delhi to Hyderabad on the North-South Corridor
- (C) Kolkata to Bangalore on the Golden Quadrilateral and then to Hyderabad on the North-South Corridor
- (D) Kolkata to Kanpur by the Golden Quadrilateral and to Jhansi by the East-West Corridor and from Jhansi to Hyderabad by the North-South Corridor

27. कोलकाता से हैदराबाद जाने के इच्छुक यात्रियों के एक समूह को, बंगाल की खाड़ी में चक्रवात की चेतावनी के कारण एक नए मार्ग को चुनना पड़ा। पर्यटन एजेंसी कौन-से सबसे छोटे मार्ग को चुनेगी ? मानचित्र का अध्ययन कीजिए और सबसे छोटे मार्ग को चुनिए।



- (A) स्वर्णिम चतुर्भुज पर कोलकाता से आगरा तथा उत्तर-दक्षिण गलियारे पर आगरा से हैदराबाद
- (B) स्वर्णिम चतुर्भुज पर कोलकाता से दिल्ली और उत्तर-दक्षिण गलियारे पर दिल्ली से हैदराबाद
- (C) स्वर्णिम चतुर्भुज पर कोलकाता से बंगलौर और फिर उत्तर-दक्षिण गलियारे पर हैदराबाद को
- (D) स्वर्णिम चतुर्भुज पर कोलकाता से कानपुर, और पूर्व-पश्चिम गलियारे पर झाँसी को और फिर उत्तर-दक्षिण गलियारे पर झाँसी से हैदराबाद

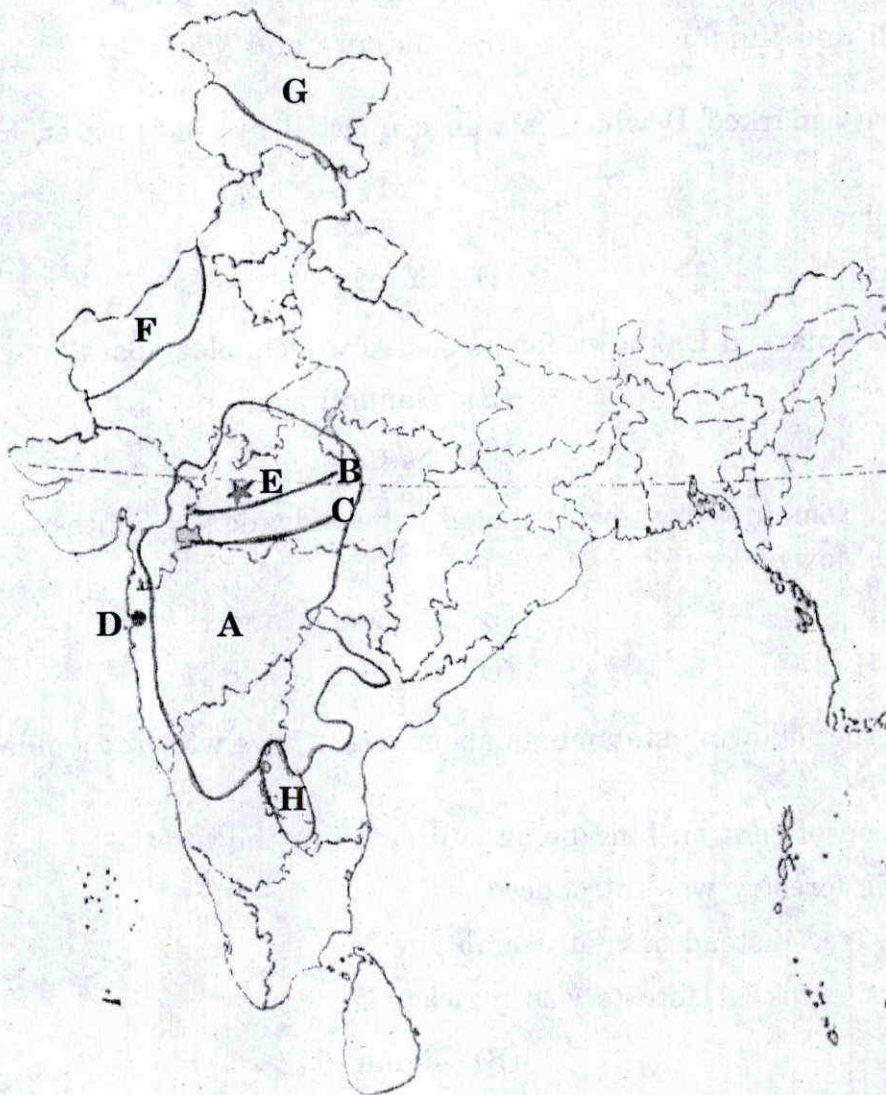
**Note :** Study the map of India given below and answer Questions No. 28 to 32.



28. The soil type of the demarcated area A is

- (A) Alluvial soil
- (B) Laterite soil
- (C) Black soil
- (D) Arid soil

नोट : भारत के मानचित्र का अध्ययन कीजिए और प्रश्न संख्या 28-32 के उत्तर दीजिए ।



28. सीमांकित क्षेत्र A में मृदा का प्रकार है

- (A) जलोढ़ मृदा
- (B) लैटराइट मृदा
- (C) काली मृदा
- (D) मरुस्थलीय मृदा

29. The two mountain ranges marked B and C are respectively  
 (A) Vindhya and Satpura (B) Satpura and Vindhya  
 (C) Aravalli and Vindhya (D) Satpura and Maikala
30. Identify the city marked D which is well connected by road, water, air and rail.  
 (A) Marmagao (B) Mumbai  
 (C) Vadodara (D) Surat
31. Identify the city marked E, known for its software technology park.  
 (A) Gwalior (B) Gandhinagar  
 (C) Indore (D) Nagpur
32. Which region remains dry even though the advancing South-West Monsoon wind blows over it?  
 (A) Region F (B) Regions F and H  
 (C) Region H (D) Regions G and H
33. Which pair of the following statements about forest laws was *not* similar in India and Java?  
 i. Imposition of rent on land being cultivated in the forests.  
 ii. Scientific forestry was introduced.  
 iii. Small wages instead of rent exemption.  
 iv. Villagers' access to forests was restricted.  
 (A) i and ii (B) ii and iii  
 (C) i and iii (D) i and iv
34. Which two reasons were responsible for the American dream of a land of plenty turning into a nightmare?  
 i. The fragile ecology of the Prairies had not been kept in mind.  
 ii. Farmers were reluctant to work in the new lands.  
 iii. Dust storms eroded the soils and made it infertile.  
 iv. Large machines substituted the hand tillers.  
 (A) i and ii (B) i and iii  
 (C) ii and iii (D) ii and iv



29. B और C से अंकित दो पर्वत श्रेणियों के नाम क्रमशः हैं
- (A) विंध्या और सतपुड़ा (B) सतपुड़ा और विंध्या  
(C) अरावली और विंध्या (D) सतपुड़ा और मैकाल
30. D से अंकित नगर को पहचानिए जो सड़क, जल, वायु और रेल मार्गों द्वारा अच्छी तरह जुड़ा है।
- (A) मार्मागाओ (B) मुंबई  
(C) वडोदरा (D) सूरत
31. E से अंकित नगर को पहचानिए, जो सॉफ्टवेयर प्रौद्योगिकी के लिए प्रसिद्ध है।
- (A) ग्वालियर (B) गाँधीनगर  
(C) इंदौर (D) नागपुर
32. वह कौन-सा प्रदेश है, जो दक्षिण-पश्चिम मानसून पवनों के, इसके ऊपर से गुजरने के बावजूद, सूखा रहता है।
- (A) प्रदेश F (B) प्रदेश F और H  
(C) प्रदेश H (D) प्रदेश G और H
33. वनों के कानून के बारे में निम्नलिखित कथनों का कौन-सा जोड़ा भारत और जावा में एकसमान नहीं था ?
- i. वनों में खेती वाली भूमि पर लगान लगा दिया।  
ii. वैज्ञानिक वानिकी का प्रारंभ।  
iii. लगान माफी के स्थान पर कम मजदूरी।  
iv. गाँव वालों पर वनों में प्रवेश को सीमित कर दिया।
- (A) i और ii (B) ii और iii  
(C) i और iii (D) i और iv
34. अमेरिकियों के खुशहाली के सपने का डरावनी हकीकत में बदल जाने के लिए कौन-से दो कारण जिम्मेदार थे ?
- i. प्रेअरी की कमजोर पारिस्थितिकी को ध्यान में नहीं रखा गया।  
ii. किसान नई भूमि पर काम करने में हिचकते थे।  
iii. रेतीले तूफानों ने मृदा का कटाव कर दिया था और उसे अनुपजाऊ बना दिया था।  
iv. हाथ से चलने वाले हल का स्थान बड़ी-बड़ी मशीनों ने ले लिया था।
- (A) i और ii (B) i और iii  
(C) ii और iii (D) ii और iv



35. नीचे कुछ कथन दिए गए हैं, जिन्होंने 18वीं और 19वीं शताब्दियों में आम आदमियों के लिए खाली समय में मनोरंजन को संभव बना दिया ।

- i. पुस्तकालय, कला-दीर्घाएँ और संग्रहालय काफ़ी संख्या में थे ।
- ii. संगीत सभाएँ लोकप्रिय हो गईं ।
- iii. गिरजाघर धार्मिक मामलों में ही उलझे रहते थे ।
- iv. मुद्रक सुन्दर-सुन्दर पुस्तकें छाप रहे थे ।

कौन-से दो कथन, मनोरंजन और अवकाश के संभावित कारणों की सबसे अच्छी व्याख्या करते हैं ?

- (A) i और ii (B) ii और iii  
(C) i और iv (D) ii और iv

36. अंग्रेज़ों द्वारा लागू किए गए वनों के नए कानूनों के कारण अफ़्रीका और भारत के चरवाहों के जीवन में कौन-सा समान परिवर्तन हुआ ?

- i. अमीर चरवाहे स्थायी किसान और व्यापारी बन गए और गरीब चरवाहे मज़दूर बन गए ।
- ii. नए मार्ग खोजे गए और पालतू पशुओं की संख्या बढ़ गई ।
- iii. किसान चरवाहों का स्वागत करते थे, क्योंकि पशुओं को चराने से उन्हें मुफ़्त खाद मिल जाती थी ।
- iv. चरवाहे एक छोटे-से क्षेत्र में सिमट कर रह गए तथा उन्हें कम चारा मिलने लगा ।

- (A) i और ii (B) ii और iii  
(C) iii और iv (D) iv और i

37. निम्नलिखित में से कौन-से दो कथन सही हैं ?

- i. बीसवीं शताब्दी के दौरान लोकतंत्र का विस्तार हुआ ।
- ii. लोकतंत्र का सारे संसार में समान रूप से विस्तार नहीं हुआ ।
- iii. म्याँमार में लोकतंत्री सरकार है ।
- iv. संयुक्त राष्ट्र के सभी सदस्य राष्ट्रों में लोकतंत्र है ।

- (A) i और iv (B) ii और iii  
(C) i और ii (D) iii और iv

38. What is the correct sequence of different stages during an election ?
- i. Campaigning
  - ii. Counting
  - iii. Voting
  - iv. Nomination
- (A) iv, i, iii and ii                      (B) ii, i, iii and iv  
 (C) i, ii, iii and iv                      (D) i, iv, ii and iii
39. Identify the features which make India a federal state.
- i. Sources of revenue for each level of government are clearly specified.
  - ii. Jurisdiction of different levels of government is specified.
  - iii. Does not accommodate regional diversities.
  - iv. The Union Government is empowered to make laws on all the subjects.
- (A) i, ii and iii                      (B) i and ii  
 (C) ii and iii                      (D) ii, iii and iv
40. Which two of the following challenges fall under the category of 'challenges of deepening democracy' ?
- i. Keeping military away from controlling government.
  - ii. Strengthening those institutions that help people's participation.
  - iii. Ensuring greater power to local governments.
  - iv. Bringing down the influence of rich and powerful people.
- (A) i and ii                      (B) iii and iv  
 (C) i and iii                      (D) ii and iii
41. Which pair of statements about development is correct ?
- i. Per capita income is also called average income per person, per year.
  - ii. Rich Middle East countries are called developed countries.
  - iii. Kerala's low Infant Mortality Rate (IMR) is due to high literacy and good health facilities.
  - iv. Human Resource Development gives priority to increasing standard of living.
- (A) i and ii                      (B) i and iii  
 (C) iii and iv                      (D) ii and iii

38. किसी चुनाव के दौरान विभिन्न चरणों का सही क्रम कौन-सा है ?

- i. प्रचार
- ii. मतगणना
- iii. मतदान
- iv. नामांकन

(A) iv, i, iii और ii (B) ii, i, iii और iv  
(C) i, ii, iii और iv (D) i, iv, ii और iii

39. भारत को संघीय राज्य बनाने वाली विशेषताओं को पहचानिए ।

- i. प्रत्येक स्तर की सरकार के राजस्व के स्रोत स्पष्ट रूप से निर्धारित हैं
- ii. विभिन्न स्तरों की सरकारों के अधिकार-क्षेत्र स्पष्ट रूप से वर्णित हैं
- iii. प्रादेशिक विविधताओं में सामंजस्य स्थापित न करना
- iv. संघीय सरकार को सभी विषयों पर कानून बनाने का अधिकार है

(A) i, ii और iii (B) i और ii  
(C) ii और iii (D) ii, iii और iv

40. निम्नलिखित में से कौन-सी दो चुनौतियाँ 'लोकतंत्र को मजबूत करने की चुनौतियों' के वर्ग में शामिल हैं ?

- i. सरकार को सेना के नियंत्रण के बाहर रखना
- ii. उन संस्थाओं को मजबूत बनाना जो लोगों की भागीदारी में मदद करती हैं
- iii. स्थानीय सरकारों को अधिक अधिकार-संपन्न बनाना
- iv. अमीर और शक्तिशाली लोगों के प्रभाव को कम करना

(A) i और ii (B) iii और iv  
(C) i और iii (D) ii और iii

41. विकास सम्बन्धी कथनों का कौन-सा जोड़ा सही है ?

- i. प्रति व्यक्ति आय को प्रति व्यक्ति वार्षिक औसत आय भी कहा जाता है ।
- ii. मध्य-पूर्व के संपन्न देशों को विकसित देश भी कहा जाता है ।
- iii. केरल में शिशु मृत्यु-दर में कमी, उच्च साक्षरता दर और बेहतर स्वास्थ्य सुविधाओं के कारण है ।
- iv. मानव संसाधन विकास, जीवन स्तर को ऊँचा उठाने को प्राथमिकता देता है ।

(A) i और ii (B) i और iii  
(C) iii और iv (D) ii और iii

42. Which pair of statements correctly indicates the functioning of Multinational Companies ?
- They involve small local producers to expand production.
  - They set up production units only in their own country.
  - They buy-out local companies to expand production.
  - They set up joint production units only with Government bodies.
- (A) i and ii  
(B) i and iii  
(C) i and iv  
(D) ii and iii
43. Krishna Kumar manages a non-farm activity of poultry farming. He is running a business with a cash fund of ₹ 20,000, a shed, and he buys grains, hay and medicines for the hens for ₹ 2,000 per month. He even pays salary of ₹ 3,000 per month to two workers on the farm. What is Krishna Kumar's working capital ?
- (A) Cash fund of ₹ 20,000 and the shed  
(B) Cost of raw materials ₹ 2,000 and the shed  
(C) Cash fund of ₹ 20,000 and cost of raw materials ₹ 2,000  
(D) Cash of ₹ 2,000 and the salary of ₹ 3,000 p.m.
44. Different products have different quality certification standards. Select the two *incorrect* pairs.
- FPO : Juice
  - ISI : Pressure cooker
  - Agmark : Television
  - CE : Shoes
- (A) i and ii  
(B) ii and iii  
(C) i and iv  
(D) iii and iv

42. कथनों का कौन-सा जोड़ा, बहुराष्ट्रीय कम्पनियों की कार्यप्रणाली को सही बताता है ?

- i. उत्पादन बढ़ाने के लिए वे छोटे-छोटे स्थानीय उत्पादकों से काम करवाती हैं
  - ii. वे केवल अपने देश में ही उत्पादन इकाइयाँ लगाती हैं
  - iii. उत्पादन बढ़ाने के लिए वे स्थानीय कंपनियों को खरीद लेती हैं
  - iv. वे केवल सरकारी संस्थाओं के साथ ही साझा उत्पादन की इकाइयाँ स्थापित करती हैं
- (A) i और ii  
(B) i और iii  
(C) i और iv  
(D) ii और iii

43. कृष्ण कुमार मुर्गीपालन के गैर-कृषि क्रियाकलाप का प्रबंध करता है। वह ₹ 20,000 की नकद राशि, सायबान, तथा प्रति माह ₹ 2,000 से अनाज, घास और दवाइयाँ खरीद कर अपना व्यापार चला रहा है। अपने फार्म पर काम करने वाले दो व्यक्तियों को प्रति माह ₹ 3,000 वेतन भी देता है। कृष्ण कुमार की कार्यशील पूँजी कितनी है ?

- (A) ₹ 20,000 की नकद राशि और सायबान  
(B) कच्चे माल की कीमत ₹ 2,000 तथा सायबान  
(C) ₹ 20,000 की नकद राशि तथा कच्चे माल की कीमत ₹ 2,000  
(D) ₹ 2,000 नकद और प्रति माह ₹ 3,000 का वेतन

44. विभिन्न उत्पादों के विभिन्न श्रेष्ठ गुणवत्ता प्रमाण-पत्र होते हैं। दो गलत जोड़ों को चुनिए।

- i. एफ.पी.ओ. : रस (जूस)
  - ii. आई.एस.आई. : प्रेशर कुकर
  - iii. एगमार्क : टेलीविजन
  - iv. सी.ई. : जूते
- (A) i और ii  
(B) ii और iii  
(C) i और iv  
(D) iii और iv


45. Which sequence of different stages given below is correct for the formation of the Himalayas ?
- i. The collision of the Gondwana plate and Angara plate raised the sea-bed into longitudinal ridges and valleys.
  - ii. During this, the Great Himalayas and the Tibetan Himalayas were formed.
  - iii. The collision was very effective and powerful.
  - iv. The Tethys bed rose to a great extent to cause the final retreat of the sea.
- (A) i, ii, iii and iv  
(B) ii, i, iii and iv  
(C) ii, iv, iii and i  
(D) i, iii, iv and ii
46. Which two of the following characteristics pertain to the Tropical Deciduous Forests ?
- i. Rainfall between 70 cms and 200 cms.
  - ii. Sal and Teak are common species of trees.
  - iii. Trees have long roots.
  - iv. Trees reach great heights upto 60 meters or even above.
- (A) i and iv  
(B) ii and iii  
(C) i and ii  
(D) ii and iv
47. Secondary sector gradually became self-reliant and the most important in total production and employment in India. Which industry does this generalisation BEST describe ?
- (A) Textile Industry  
(B) Iron and Steel Industry  
(C) Sugar Industry  
(D) Cement Industry



45. हिमालय के निर्माण की नीचे दी गई विभिन्न अवस्थाओं का सही क्रम कौन-सा है ?
- गोंडवाना प्लेट की अंगारा प्लेट से टक्कर और समुद्र-तल, अनुदैर्घ्य कटकों और घाटियों के रूप में ऊपर उठ गया ।
  - इस दौरान महान् हिमालय और तिब्बती हिमालय का निर्माण हुआ ।
  - टक्कर बहुत प्रभावशाली और शक्तिशाली थी ।
  - टेथिस तल का काफी बड़ा भाग ऊपर उठ गया और समुद्र पीछे हट गया ।
- (A) i, ii, iii और iv  
 (B) ii, i, iii और iv  
 (C) ii, iv, iii और i  
 (D) i, iii, iv और ii
46. निम्नलिखित में से कौन-सी दो विशेषताएँ 'उष्ण कटिबंधीय पर्णपाती वनों' से सम्बन्धित हैं ?
- 70 सेमी और 200 सेमी के बीच वर्षा
  - साल और सागौन वृक्षों की सामान्य प्रजातियाँ हैं
  - पेड़ों की जड़ें लंबी होती हैं
  - वृक्ष 60 मीटर या इससे भी अधिक ऊँचे होते हैं
- (A) i और iv  
 (B) ii और iii  
 (C) i और ii  
 (D) ii और iv
47. भारत में द्वितीयक क्षेत्रक धीरे-धीरे आत्म-निर्भर हो गया और कुल उत्पादन तथा रोजगार में बहुत महत्वपूर्ण बन गया । इस सामान्यीकरण का सबसे अच्छा उदाहरण कौन-सा उद्योग है ?
- (A) वस्त्र उद्योग  
 (B) लोहा और इस्पात उद्योग  
 (C) चीनी उद्योग  
 (D) सीमेंट उद्योग

48. Study the illustration given below :

Source : <http://adayinlife.timesofindia.com>




Based on the above illustration, which two of the following inferences are correct ?

- i. Depleting water resource and limited solutions to conserve water.
- ii. Water of the world will soon finish, since we are unable to conserve it.
- iii. Consumption of water is far more than the available water resource.
- iv. Pollution in water is mainly due to industries and agriculture.

- (A) i and iii  
(B) i and ii  
(C) ii and iii  
(D) iii and iv

48. नीचे दिए गए चित्र का अध्ययन कीजिए ।

स्रोत : <http://adayinlife.timesofindia.com>



संसार के 60 देशों के 2 अरब लोग पानी के लिए तरस रहे हैं ।  
वर्ष 2050 तक यह संख्या बढ़कर 7 अरब भी हो सकती है ।

“विगत तीन पीढ़ियों से, हमारा परिवार पानी की समस्या का हल निकालने में बहुत वैज्ञानिक रहा है; लेकिन जब पानी ही न बचा तो मैं क्या कर सकता हूँ ।”

ऊपर के चित्र पर आधारित, निम्नलिखित अनुमानों में से कौन-से दो सही हैं ?

- घटते जल संसाधन और जल संरक्षण के सीमित समाधान
- संसार का जल शीघ्र समाप्त हो जाएगा, क्योंकि हम इसका संरक्षण करने में असमर्थ हैं
- उपलब्ध जल संसाधन की तुलना में जल का उपभोग बहुत अधिक है
- जल प्रदूषण मुख्यतः उद्योगों और कृषि के कारण होता है

- (A) i और iii
- (B) i और ii
- (C) ii और iii
- (D) iii और iv

49. *Assertion (A)* : Deeply critical of these developments, novelists such as Charles Dickens wrote about the terrible effects of industrialisation on people's lives and characters.

*Reason (R)* In the early 19<sup>th</sup> century, factories increasingly became an intimate part of the English landscape. So, visible were the imposing new mills, so magical seemed to be the power of new technology, that contemporaries were dazzled.

Based on the above pair of assertion and reason, which one of the following options is correct ?

- (A) A and R are correct and R explains A
- (B) A and R are correct but R does not explain A
- (C) A is true but R is false
- (D) A is false but R is true

50. Study the excerpt given below carefully and answer the question that follows.

“The movement here was against talukdars and landlords who demanded from peasants exorbitantly high rents and a variety of other cesses. Peasants had to do *begar* and work at landlords farms without any payment. As tenants, they had no security of tenure, being regularly evicted so that they could acquire no right over the leased land.”

Which novel describes BEST such a life of the Indian peasants ?

- (A) *Anguriya Binimoy*
- (B) *Rang Bhoomi*
- (C) *Titash Ekti Nadir Naam*
- (D) *Godan*

49. अभिकथन (अ) : इस घटनाक्रम की कड़ी निंदा करते हुए चार्ल्स डिकेन्स जैसे उपन्यासकारों ने लोगों के जीवन और चरित्र पर औद्योगीकरण के दुष्प्रभावों के बारे में लिखा ।

कारण (क) : 19वीं शताब्दी के प्रारंभ में, कारखाने धीरे-धीरे अंग्रेजी परिदृश्य का महत्वपूर्ण अंग बन गए । नए प्रभावशाली कारखाने इतने प्रत्यक्ष थे, नई प्रौद्योगिकी की शक्ति इतनी जादुई थी, कि समकालीन व्यक्ति चौंधिया गए थे ।

ऊपर दिए गए अभिकथन और कारण के जोड़े पर आधारित, निम्नलिखित विकल्पों में से कौन-सा सही है ?

- (A) अ और क सही हैं और क, अ की व्याख्या करता है
- (B) अ और क सही हैं लेकिन क, अ की व्याख्या नहीं करता है
- (C) अ सही है लेकिन क गलत है
- (D) अ गलत है लेकिन क सही है

50. नीचे दिए गए उद्धरण का सावधानी से अध्ययन कीजिए और उसके बाद दिए गए प्रश्न का उत्तर दीजिए ।

“यह आन्दोलन उन ताल्लुकदारों और भूस्वामियों के खिलाफ था, जो किसानों से बहुत अधिक लगान और कई प्रकार के कर माँगते थे । किसानों को बेगार करनी पड़ती थी और भूस्वामियों के खेतों में मुफ्त काम करना पड़ता था । पट्टेदार किसानों के रूप में उनकी पट्टेदारी की कोई सुरक्षा नहीं थी । उन्हें नियमित रूप से हटा दिया जाता था, जिससे कि वे लगान पर दी गई भूमि पर अपना हक न जमा लें ।”

भारतीय किसानों के जीवन का ऐसा वर्णन सबसे अच्छा किस उपन्यास में हुआ है ?

- (A) अँगुरिया बिनिमॉय
- (B) रंग भूमि
- (C) तीताश एकटी नदीर नाम
- (D) गोदान

51. Choose the right sequence which shows the progress of Nationalism.

- i. Kingdoms, duchies, cantons
- ii. Revolutionaries
- iii. Spirit of conservatism
- iv. Liberal middle class brought national unity

Which one of the following sequences is correct ?

- (A) i, iv, iii and ii                      (B) iv, i, iii and ii  
(C) ii, i, iii and iv                      (D) i, iii, ii and iv

52. Democracy is considered to be better than other forms of government. Which of the following statements support this claim ?

- i. It is a more accountable form of government.
- ii. It improves the quality of decision-making.
- iii. It ensures rapid economic development of citizens.
- iv. It enhances the dignity of citizens.

- (A) i, iii and iv                      (B) i, ii, iii and iv  
(C) i, ii and iv                      (D) ii, iii and iv

53. Which of the following are essential principles of our electoral system ?

- i. Universal adult franchise
- ii. Open political competition
- iii. One vote, one value
- iv. Independent candidates

- (A) i, ii and iv                      (B) i, ii and iii  
(C) i, iii and iv                      (D) ii, iii and iv



54. Which three of the following statements justify that modern democracies cannot exist without political parties ?

- i. No independent candidate will be able to make any promise to the people about any major policy matter.
- ii. It encourages factionalism and divisive forces.
- iii. Elected representatives will be accountable to their constituency.
- iv. No one will be responsible for how the country will be run.

(A) iii, iv and i

(B) iii, ii and iv

(C) i, ii and iii

(D) i, iii and iv

55. Which facts about the Indian currency notes are correct ?

- i. The notes bear the signature of the Governor of the Reserve Bank of India.
- ii. It is a promissory note guaranteed by the Central Government.
- iii. It carries the national emblem.
- iv. It carries the seal of Reserve Bank of India.

(A) i and ii

(B) ii and iii

(C) i, iii and iv

(D) i, ii, iii and iv

56. Which three statements from amongst the following help to distinguish chronic hunger from the seasonal hunger ?

- i. It is related to cycles of food growing and harvesting.
- ii. It is a perpetual problem related to very low income.
- iii. It is prevalent in rural areas and amongst urban casual labourers.
- iv. It occurs when people don't get work throughout the year.

(A) i, ii and iii

(B) ii, iii and iv

(C) i, iii and iv

(D) i, ii and iv



54. निम्नलिखित में से कौन-से तीन कथन इस तथ्य की पुष्टि करते हैं कि आधुनिक लोकतंत्र राजनीतिक दलों के बिना नहीं चल सकता ?

i. कोई भी स्वतंत्र उम्मीदवार किसी प्रमुख नीतिगत बदलाव के विषय में लोगों से कोई वायदा नहीं कर पायेंगे

ii. यह गुटबाजी और विघटनकारी शक्तियों को प्रोत्साहित करता है

iii. निर्वाचित प्रतिनिधि अपने निर्वाचन क्षेत्रों के प्रति उत्तरदायी होंगे

iv. देश कैसे चले, इसके लिए कोई भी उत्तरदायी नहीं होगा

(A) iii, iv और i

(B) iii, ii और iv

(C) i, ii और iii

(D) i, iii और iv

55. भारतीय मुद्रा (करेंसी नोटों) के बारे में कौन-से तथ्य सही हैं ?

i. नोटों पर भारतीय रिज़र्व बैंक के गवर्नर के हस्ताक्षर होते हैं

ii. यह केन्द्र सरकार द्वारा प्रतिश्रुत वचन पत्र होता है

iii. इस पर राष्ट्रीय प्रतीक बना होता है

iv. इस पर भारत के रिज़र्व बैंक की मुहर होती है

(A) i और ii

(B) ii और iii

(C) i, iii और iv

(D) i, ii, iii और iv

56. निम्नलिखित में से कौन-से तीन कथन दीर्घकालिक भुखमरी का मौसमी भुखमरी से अंतर स्पष्ट करने में मदद करते हैं ?

i. यह फसल उपजाने और काटने के चक्रों से सम्बद्ध है

ii. यह बहुत कम आय से जुड़ी चिरस्थायी समस्या है

iii. यह ग्रामीण क्षेत्रों और शहरी अनियत श्रमिकों में पाई जाती है

iv. यह तब होती है, जब लोगों को पूरे साल काम नहीं मिलता है

(A) i, ii और iii

(B) ii, iii और iv

(C) i, iii और iv

(D) i, ii और iv

57. Which of the following indicators help to improve quality of life in a country ?

- i. Reduction in Life Expectancy.
- ii. Decline in Infant Mortality Rate.
- iii. Growth in Literacy Rate.
- iv. Rise in Per Capita Income.

- (A) ii, iii and iv
- (B) i, ii and iv
- (C) i and ii
- (D) i, ii, iii and iv

58. Given below is information about four stations of India :

Station	Latitude	Altitude (in metres)	Mean temperature (in °C)		Annual Rainfall (in cms.)
			Maximum	Minimum	
(i)	29°N	219	31	19	67.0
(ii)	34°N	3506	12	1	8.5
(iii)	26°18'N	224	34	20	36.6
(iv)	13°4'N	7	33	24	128.6

With the help of the information given in the above table, identify the group of four stations which respectively conforms to the given data ?

- (A) Jodhpur, Delhi, Chennai, Leh
- (B) Jodhpur, Leh, Chennai, Delhi
- (C) Delhi, Jodhpur, Leh, Chennai
- (D) Delhi, Leh, Jodhpur, Chennai

57. किसी देश में जीवन की गुणवत्ता सुधारने में निम्नलिखित में से कौन-से संकेतक सहायक होते हैं ?

- i. जीवन प्रत्याशा में हास
  - ii. शिशु मृत्यु-दर में कमी
  - iii. साक्षरता दर में वृद्धि
  - iv. प्रति व्यक्ति आय में वृद्धि
- (A) ii, iii और iv  
 (B) i, ii और iv  
 (C) i और ii  
 (D) i, ii, iii और iv

58. नीचे भारत के चार स्थानों के बारे में जानकारी दी गई है :

स्थान	अक्षांश	ऊँचाई (मीटर में)	औसत तापमान (°C में)		वार्षिक वर्षा (सेमी में)
			अधिकतम	न्यूनतम	
(i)	29°N	219	31	19	67.0
(ii)	34°N	3506	12	1	8.5
(iii)	26°18'N	224	34	20	36.6
(iv)	13°4'N	7	33	24	128.6

ऊपर की सारणी में दी गई जानकारी की सहायता से चार स्थानों के उस समूह को पहचानिए, जो दिए गए आँकड़ों से क्रमशः मेल खाते हैं।

- (A) जोधपुर, दिल्ली, चेन्नई, लेह
- (B) जोधपुर, लेह, चेन्नई, दिल्ली
- (C) दिल्ली, जोधपुर, लेह, चेन्नई
- (D) दिल्ली, लेह, जोधपुर, चेन्नई





**उत्तर-पत्र पर लिखने के लिए निर्देश**  
**Instructions for writing on the Answer Sheet**

1. Read the questions carefully before answering them. For each question there are four options (A), (B), (C) and (D). Only one of these is correct.
2. Choose the option which you think best answers the question.
3. Then find the corresponding question number on the Answer Sheet and fill in the bubble of your choice.
4. Use Blue/Black ball point pen to fill the answer sheet.
5. Apart from filling in the bubbles for answers and roll number, do not write anything else on the Answer Sheet.
6. Extra space is provided in the question paper for rough work.

**How to answer a Multiple - Choice Question :** The following example illustrates the correct way of answering multiple choice question.

**Example :**

**Question :** Which of the following rights was denied to women during the liberal movement of 1848 ?

- (A) Forming political associations
- (B) Holding political meetings
- (C) Casting their vote in elections
- (D) Applying for government jobs

**Answer :** The answer to this question is option (C). You have to mark it on the Answer Sheet as shown.

- (A) (B) (C) (D)

1. प्रश्नों के उत्तर देने से पहले उन्हें सावधानी से पढ़ें। प्रत्येक प्रश्न के लिए चार विकल्प (A), (B), (C) और (D) दिए गए हैं। इनमें से से केवल एक विकल्प सही है।
2. उसी विकल्प को चुनिए जिसे आप उत्तर के लिए सबसे उत्तम समझते हैं।
3. इसके बाद सम्बन्धित प्रश्न संख्या को अपने उत्तर-पत्र पर ढूँढ़िए और उसे अपनी पसंद के गोले में भरिए।
4. अपने उत्तर-पत्र में भरने के लिए नीले/काले बॉल पॉइंट पेन का प्रयोग करें।
5. उत्तरों के लिए गोलों के भरने तथा रोल नम्बर के अतिरिक्त उत्तर-पत्र पर कुछ न लिखिए।
6. रफ कार्य के लिए प्रश्न-पत्र पर अतिरिक्त स्थान दिया गया है।

**बहुविकल्पीय प्रश्नों के उत्तर कैसे दें :**

बहुविकल्पीय प्रश्नों का उत्तर लिखने का सही तरीका निम्नलिखित उदाहरण से स्पष्ट होता है :

**उदाहरण :**

**प्रश्न :** 1848 के उदारवादी आंदोलन के दौरान महिलाओं को निम्नलिखित में से कौन-सा अधिकार नहीं दिया गया था ?

- (A) राजनीतिक संघ बनाना
- (B) राजनीतिक बैठकें आयोजित करना
- (C) चुनावों में मतदान करना
- (D) सरकारी नौकरियों के लिए आवेदन करना

**उत्तर :** इस प्रश्न का उत्तर विकल्प (C) है। आपको इसे दिखाए गए तरीके से उत्तर-पत्र पर अंकित करना है।

- (A) (B) (C) (D)